

**Social Science**  
**Paper -1**

---

**Maximum Marks : 80**

---

1. Write any one difference between Metallic and Non-metallic minerals. 1  
धातु और गैर धातु खनिज पदार्थों के बीच किसी एक अंतर को लिखिए।
2. On the basis of ownership, under which sector does industry TISCO fall ? 1  
स्वामित्व के आधार पर टिस्को उद्योग किस क्षेत्र के अन्तर्गत आता है?
3. Who is considered the Prophet of modern Andhra Pradesh ? 1  
किस को आधुनिक आन्ध्र प्रदेश का पैगम्बर माना जाता है?
4. Which Act empowered the British to put the Indian people in jail without a trial ? 1  
किस एक्ट ने ब्रिटिश शासन को यह शक्ति दी कि वे भारतीय लोगों को बिना मुकदम के जेल में डाल सकें?
5. Who was the first and the last Indian to become a Governor General ? 1  
भारत का गवर्नर जनरल बनने वाला पहला और अन्तिम भारतीय कौन था?
6. What is meant by residuary subjects ? 1  
अवशिष्ट विषयों का क्या अभिप्राय है?
7. Name any two courts included in the subordinate courts. 1  
अधीनस्थ न्यायालयों में सम्मिलित किन्हीं दो न्यायालयों (अदालतों) के नाम लिखिए।
8. Explain the term 'creamy layer'. 1  
'क्रीमी लेयर' पद की व्याख्या कीजिए।

9. Which groups in India are known as marginalised groups ? 1  
भारत में किन समूहों को हाशिए वाले समूहों के रूप में जाना जाता है?
10. Suggest any three methods for soil conservation. 3  
मृदा संरक्षण के लिए कोई तीन तरीके सुझाइये।
11. Why plantation agriculture is considered the best type of commercial farming? 3  
वाणिज्यिक खेती में बागान खेती को सबसे उत्तम माना गया है क्यों?
12. Name the three different categories of industries classified on the basis of size. 3.  
(Explain with examples.)  
आकार के आधार पर वर्गीकृत उद्योगों के तीन भिन्न वर्गों के नाम लिखिए तथा व्याख्या भी कीजिए।
13. Explain any three reasons for the declining sex ratio in India. 3  
भारत में लिंग अनुपात घटने के किन्हीं तीन कारणों को स्पष्ट कीजिए।
14. Describe any three changes made in the administration of India after the revolt of 1857. 3  
1857 के विद्रोह के पश्चात भारत के शासन प्रबंध में किए गए किन्हीं तीन बदलावों का वर्णन कीजिए।
15. Describe any three changes brought in the Indian society by the reform movements. 3  
समाज सुधार आन्दोलनों के द्वारा भारतीय समाज में हुए किन्हीं तीन बदलावों का वर्णन कीजिए।

16. Compare the financial powers of the Lok Sabha and Rajya Sabha. Which house is more powerful in financial matters ? 2+1=3

राज्य सभा तथा लोकसभा की वित्तीय शक्तियों की तुलना कीजिए तथा इस तुलना के आधार पर दोनों सदनों में से कौन सा सदन अधिक शक्तिशाली है?

17. Describe any six functions and powers of the Prime Minister of India.  $6 \times \frac{1}{2} = 3$

भारत के प्रधानमंत्री की किन्हीं छः कार्यों और शक्तियों का वर्णन कीजिए।

18. Prove through examples that the culture of Adivasis has contributed to protection of wild life and environment. 3

उदाहरणों के माध्यम से सिद्ध कीजिए कि आदिवासियों की संस्कृति ने वन्य जीवों एवं पर्यावरण संरक्षण में योगदान दिया है।

19. Describe any three programs launched by the Government for the upliftment of the weaker section of the society. 3×1=3

समाज के कमजोर वर्ग के उत्थान के लिए सरकार द्वारा चलाए गए किन्हीं तीन कार्यक्रमों का वर्णन कीजिए।

20. How do topography and climate of a place influence the formation of soil ? Explain with the help of examples.  $2\frac{1}{2} \times 2\frac{1}{2} = 5$

किसी स्थान की स्थलाकृति और जलवायु मिट्टी के गठन को कैसे प्रभावित करता है? उदाहरणों की सहायता से स्पष्ट कीजिए।

21. Define literacy rate. How is it an important indicator of the socio-economic strength of a country ? 1+4=5

शिक्षा दर को परिभाषित कीजिए। यह किस प्रकार किसी देश की सामाजिक-आर्थिक मजबूती की सूचक होती है?

22. "The interference in the customs and traditions of Hindus was one major cause of revolt of 1857 ? Support the statement with examples. 5×1=5

1857 के विद्रोह का एक मुख्य कारण भारतीयों के धार्मिक तथा रीति-रिवाजों में अंग्रेजों का हस्तक्षेप भी माना जाता है। इसे उदाहरणों द्वारा स्पष्ट कीजिए।

23. When was railways introducing in India ? Explain any four reasons of introducing railways in India. 1+4=5

भारत में रेलवे को कब शुरू किया गया? भारत में रेलवे शुरू करने के कोई चार कारण स्पष्ट कीजिए।

24. Explain any two movements started by Mahatma Gandhi which turned into Mass movements. 2½+2½=5

महात्मा गाँधी द्वारा शुरू किए गए किन्हीं दो आंदोलनों की व्याख्या कीजिए जो जन आन्दोलन के रूप में परिवर्तित हो गए।

25. Explain any five Legislative powers of the President. 5

राष्ट्रपति की किन्हीं पाँच विधायी शक्तियों की व्याख्या कीजिए।

26. Explain the significance of Public Interest Litigation. 5×1=5

'जनहित याचिका' के महत्त्व को स्पष्ट कीजिए।

27. (1) Two features A and B are shown in the political map of the world. Identify these features with the help of following information and write their correct names on the lines marked on the map. 1+1+1=3

(A) One important Iron producing country of South America

(B) A Cotton Textile manufacturing country in Asia

(2) On the same political map of the world, locate and label the following with appropriate symbol.

(C) Chile – An Important Copper producing country

(1) संसार के राजनैतिक मानचित्र पर दो लक्षण A तथा B दर्शाए गए हैं। नीचे दी गई सूचना के आधार पर उन्हें पहचानिए तथा उनके सही नाम दी गई रेखाओं पर लिखिए।

(A) दक्षिण अमरीका का एक लौह उत्पादक देश

(B) एशिया का सूती वस्त्र उत्पादक देश

(2) दिए गए उसी संसार के राजनैतिक मानचित्र पर निम्नलिखित को उपयुक्त चिह्नों द्वारा दिखाइए तथा नाम लिखिए—

(C) दक्षिण अमेरिका का तांबा उत्पादक देश

**Alternate question for visually challenged students**

**in lieu of Question Number 27**

**प्र.सं. 27 के स्थान पर दृष्टिबाधित विद्यार्थियों के लिए वैकल्पिक प्रश्न**

27.1 Name an important bauxite producing country of South America

27.2 Name important textile manufacturing country of Africa 1+1+1=3

27.3 Which is an important iron and steel manufacturing country in Asia ?

- 27.1 दक्षिण अमरीका का एक बॉक्साइट उत्पादक देश का नाम।
- 27.2 अफ्रीका महाद्वीप का एक महत्त्वपूर्ण सूती वस्त्र उत्पादक देश।
- 27.3 एशिया महाद्वीप के लौह इस्पात उत्पादक देश का नाम बताइये।
28. (1) Two features (A) and (B) are shown in the political map of India. Identify these features with the help of information and write their correct names on the line marked on the map. 1+1+1=3
- (A) The place to which Jyotoba Phule belonged
- (B) The place to which Periyar E. Ramaswamy belonged
- (2) On the same political map of India, locate and label the following place
- (C) The place where Jallianwala Bagh Massacre took place
- (1) भारत के राजनीतिक मानचित्र पर दो लक्षण 'A' तथा 'B' दर्शाए गए हैं। नीचे दी गई सूचना के आधार पर उन्हें पहचानिए तथा उनके सही नाम मानचित्र पर खींची गई रेखाओं पर लिखिए।
- (A) वह स्थान जहाँ से ज्योतिबा फुले संबंध रखते हैं।
- (B) वह स्थान जहाँ से पेरियार ई.वी. रामास्वामी संबंध रखते हैं।
- (2) दिए गए उसी मानचित्र पर निम्नलिखित को अंकित कीजिए तथा उसका नाम भी लिखिए—
- (C) वह स्थान जहाँ पर जलियाँवाला बाग नरसंहार हुआ था।

**Alternate question for visually challenged students**

**in lieu of Question Number 28**

**प्र.सं. 28 के स्थान पर दृष्टिबाधित विद्यार्थियों के लिए वैकल्पिक प्रश्न**

28.1 The place where division of Congress took place

28.2 Name the place where Swami Dayananad Saraswati established the Arya Samaj Society of Nobles.

28.3 Name the place from where Shri Narayana Guru belonged.

28.1 उस स्थान का नाम बताइए जहाँ कांग्रेस का विभाजन हुआ था।

28.2 स्वामी दयानंद सरस्वती ने आर्य समाज सोसाइटी फॉर नोबेल की स्थापना किस स्थान पर की?

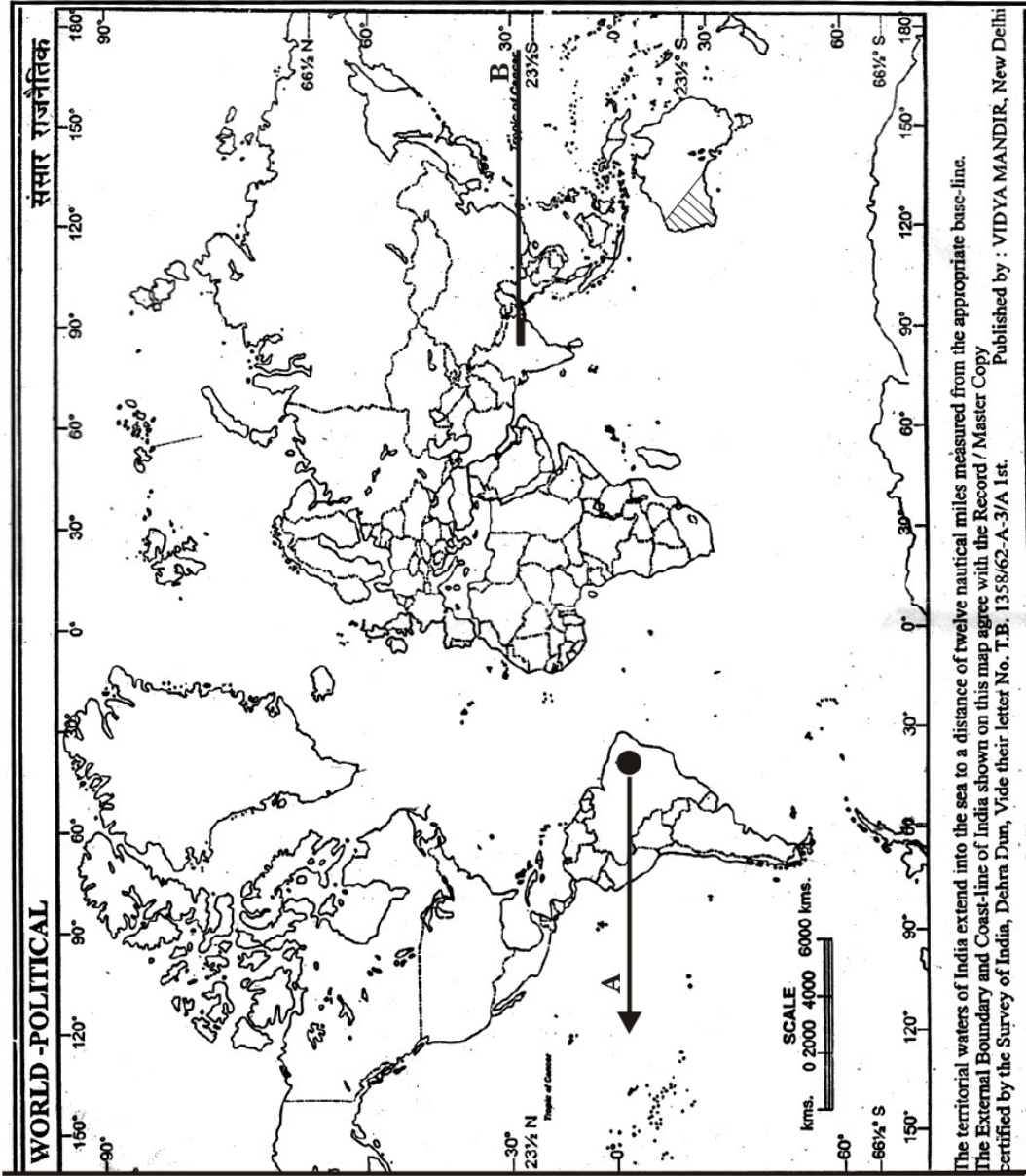
28.3 उस स्थान का नाम बताइये जहाँ से श्री नारायण गुरु संबंध रखते हैं।

Name \_\_\_\_\_ Class \_\_\_\_\_ Roll No. \_\_\_\_\_

नाम ..... कक्षा ..... अनुक्रमांक .....

Q. 27 Map

प्रश्न संख्या 27 मानचित्र



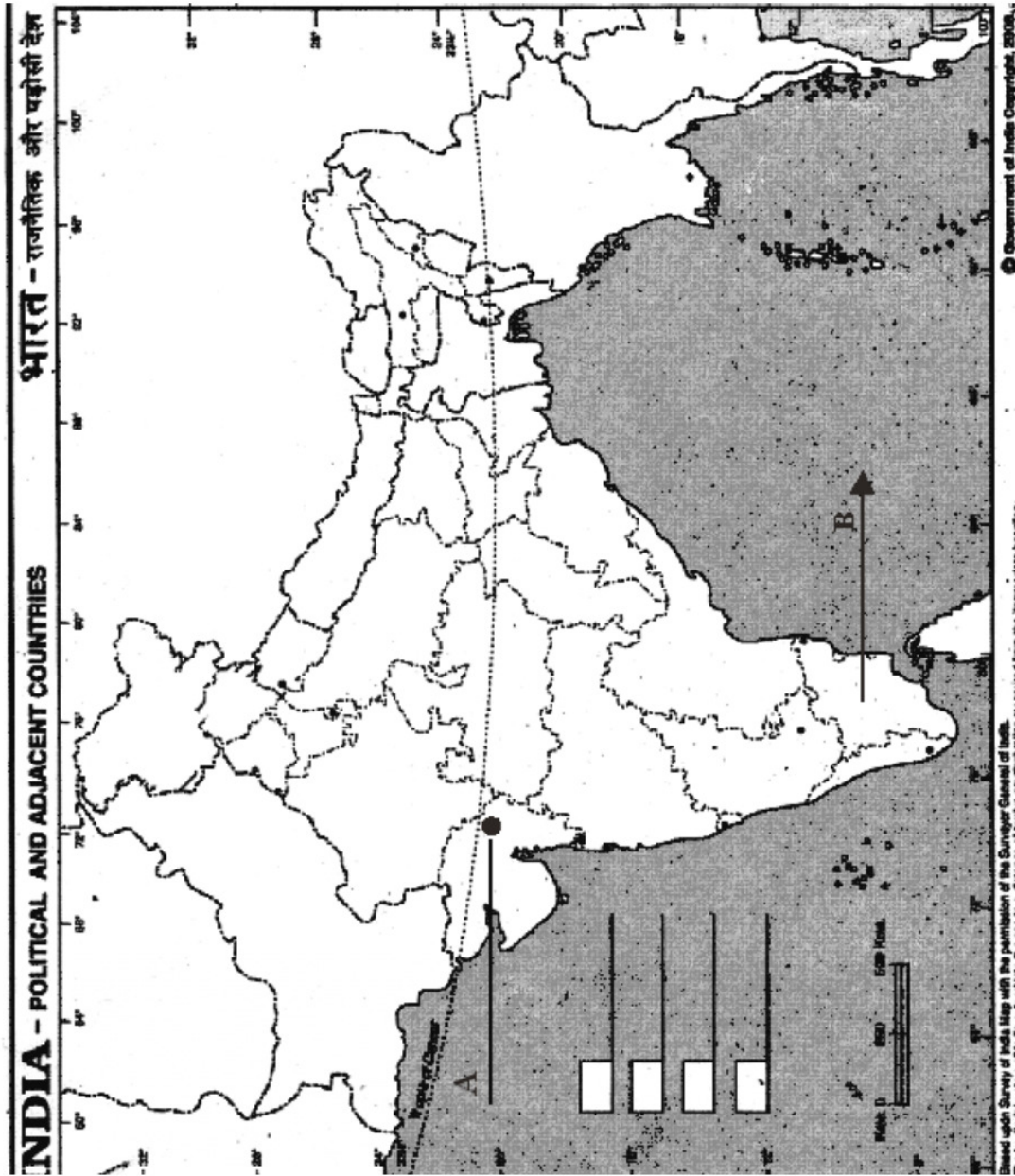


Name \_\_\_\_\_ Class \_\_\_\_\_ Roll No. \_\_\_\_\_

नाम ..... कक्षा ..... अनुक्रमांक .....

Q. 28 Map

प्रश्न संख्या 28 मानचित्र



1. Name the mineral which is called the backbone of modern civilization and name one of its major types. 1/2+1/2

आधुनिक सभ्यता की 'रीढ़ की हड्डी' कहे जाने वाले खनिज तत्व का नाम लिखिए और इसके मुख्य प्रकारों में से किसी एक का नाम लिखिए।

2. Which city in India is known as "Silicon Valley of India" ? 1

भारत में कौन-सा शहर 'सिलिकॉन वैली ऑफ इंडिया' के नाम से जाना जाता है?

3. Write the name of new capital which was chosen as the residence and administrative centre of British viceroy in India. 1

उस नवनिर्मित राजधानी का नाम लिखिए, जिसे भारत में ब्रिटिश वायसराय की रिहायश व प्रशासनिक कार्यों के केन्द्र के रूप में चुना गया।

4. Highlight one of the most important requirement to make India a vibrant and dynamic country by 2020. 1

सन् 2020 तक भारत को एक जीवंत एवं गतिशील देश बनाने के लिए सबसे जरूरी आवश्यकता को उजागर कीजिए।

5. Name the organisation which has replaced Planning Commission in 2015. 1

2015 में योजना आयोग का स्थान लेने वाली संस्था का नाम लिखिए।

6. Explain the term "Impeachment". 1

'महाभियोग' शब्द की व्याख्या कीजिए।

7. State any one function of Supreme Court as the Court of Record. 1  
अभिलेख न्यायालय के रूप में सर्वोच्च न्यायालय के किसी एक कार्य का उल्लेख कीजिए।
8. Which sections of the society are called 'Marginalised Groups'? Name any two. 1  
समाज के किन वर्गों को 'हाशिये के समूह' कहा जाता है? किन्हीं दो के नाम लिखिए।
9. State one step under Reservation policy of Government of India to provide social justice to all. 1  
सब नागरिकों को सामाजिक न्याय प्रदान करने हेतु 'भारत की आरक्षण नीति' में किए गए किसी एक प्रावधान के बारे में लिखिए।
10. Explain any three reasons for the serious efforts made to clean water in rivers. 3  
नदियों में पानी स्वच्छ रखने के गम्भीर प्रयासों के कोई तीन कारण स्पष्ट कीजिए।
11. Highlight the importance of agriculture for a country's economy. 3  
किसी भी देश की अर्थव्यवस्था में कृषि के महत्व को उजागर कीजिए।
12. Explain any three reasons for concentration of Cotton textile industry in Gujrat and Maharashtra. 3  
गुजरात और महाराष्ट्र राज्यों में सूती कपड़ा उद्योग के केन्द्रित होने के कोई तीन कारण स्पष्ट कीजिए।
13. Define the term sex ratio and list any two reasons responsible for declining sex ratio in India. 3  
'लिंग अनुपात' शब्द को परिभाषित करें और भारत में घटते लिंग अनुपात के लिए उत्तरदायी किन्हीं दो कारणों के बारे में लिखिए।

14. State any three political causes of the revolt of 1857. 3

1857 के विद्रोह के कोई तीन राजनीतिक कारण लिखिए।

15. Describe the police organisation of Lord Cornwallis under the Indian Police Act. 3

भारतीय पुलिस एक्ट के तहत लार्ड कार्नवालिस द्वारा गठित पुलिस विभाग की संरचना का वर्णन कीजिए।

16. Examine any three advantages of Universal adult franchise. 3

सार्वभौमिक व्यस्क मताधिकार के किन्हीं तीन लाभों की परख कीजिए।

17. Describe any three Executive powers of The President of India. 3

भारत के राष्ट्रपति की किन्हीं तीन कार्यकारी शक्तियों का वर्णन कीजिए।

18. Name any six communities that are known as minority communities. 3

अल्पसंख्यक समुदाय के रूप में पहचान रखने वाले किन्हीं छः समुदायों के नाम लिखिए।

19. Which mission was launched on October 2, 2014 to have a clean India ?

Describe any two targets this mission strives to achieve. 1+2

अक्टूबर 2, 2014 को कौन सा अभियान चलाया गया? इस अभियान के अन्तर्गत हासिल किये जाने वाले किन्हीं दो उद्देश्यों का वर्णन कीजिए।

20. Define the term "Soil Conservation." List any 4 methods for Soil Conservation.

1+4

'मृदा संरक्षण' की परिभाषा लिखिए। 'मृदा संरक्षण' के किन्हीं चार उपायों के बारे में लिखिए।

21. Why Minerals & Industries are treated as an important economic factor for affecting the distribution of population ? Explain. 2½+2½=5

जनसंख्या वितरण को प्रभावित करने में खनिजों व उद्योगों को महत्वपूर्ण आर्थिक घटक क्यों माना जाता है? स्पष्ट कीजिए।

22. Describe any five reasons for the failure of revolt of 1857. 5

1857 ई. की क्रांति की असफलता के किन्हीं पाँच कारणों का वर्णन कीजिए।

23. From where did Indian Railways make a beginning in India. Explain any four reasons for introducing Railways by the Britishers. 1+4

भारत में रेल सेवा का आरंभ कहाँ से हुआ? अंग्रेजों द्वारा भारत में रेल सेवा का आरंभ करने के कोई चार कारण स्पष्ट कीजिए।

24. “Quit India Movement was the last blow to the British Rule in India.” Support this statement with suitable argument. 5

“भारत में अंग्रेजों के शासन पर ‘भारत छोड़ो आन्दोलन’ अन्तिम प्रहार सिद्ध हुआ।” उपयुक्त तर्कों से इस कथन की पुष्टि कीजिए।

25. Describe any five important powers and functions of the Prime Minister. 5

प्रधानमंत्री के किन्हीं पाँच महत्वपूर्ण कार्यों एवं शक्तियों का वर्णन कीजिए।

26. Explain the significance of Public Interest Litigation in Indian Judicial system. 5

भारतीय न्यायिक व्यवस्था में “जनहित याचिका” के महत्व को स्पष्ट कीजिए।

27. Two features A and B are shown in the political map of the world. Identify the features with the help of following information and write their correct names on the lines marked on the map. 3

(A) An important Coal producing country of Europe

(B) A far eastern country of Asian continent manufacturing cotton textile

On the same political map of the world, locate and label the following items with appropriate symbols.

(C) An important country of South America manufacturing iron and steel

संसार के राजनैतिक मानचित्र पर दो लक्षण A और B दर्शाए गए हैं। नीचे दी गई सूचना के आधार पर उन्हें पहचानिए तथा उनके सही नाम दी गई रेखाओं पर लिखिए।

(A) यूरोप का एक महत्वपूर्ण कोयला उत्पादक देश।

(B) एशिया महाद्वीप के पूर्व में स्थित महत्वपूर्ण सूती कपड़ा उत्पादक देश।

दिए गए उसी संसार के राजनैतिक मानचित्र पर निम्नलिखित को उपयुक्त चिह्नों द्वारा दिखाइए तथा नाम लिखिए—

(C) दक्षिण अमेरिका का महत्वपूर्ण लौह और इस्पात उत्पादक देश।

**Alternate question for visually challenged students**

**in lieu of Question Number 27**

प्र.सं. 27 के स्थान पर दृष्टिबाधित विद्यार्थियों के लिए वैकल्पिक प्रश्न

27.1 Name any one copper producing country of South America

27.2 Name one important Iron and Steel producing country of Asia

27.3 Which country of Africa continent produces petroleum ?

- 27.1 दक्षिण अमरीका का तांबा उत्पादक एक देश।
- 27.2 एशिया महाद्वीप का एक महत्वपूर्ण लौह इस्पात उत्पादक देश।
- 27.3 अफ्रीका महाद्वीप का एक महत्वपूर्ण पेट्रोलियम उत्पादक देश।

28. (1) Two features (A) and (B) are shown in the political map of the India. Identify the features with the help of following information and write their correct names on the line marked on the map. 3

(A) The place where Jallianwala Bagh massacre took place.

(B) The place where Mrs. Annie Besant established the Home Rule League

(2) On the same political map of India, locate and label the following items with appropriate symbols :

(C) The state to which B.R. Ambedkar belonged.

(1) भारत के राजनैतिक मानचित्र पर दो लक्षणों A तथा B दर्शाए गए हैं। नीचे दी गई सूचना के आधार पर उन्हें पहचानिए तथा उनके सही नाम मानचित्र पर खींची गई रेखाओं पर लिखिए।

(A) वह स्थान जहाँ जलियाँवाला बाग नरसंहार घटना घटी।

(B) वह स्थान जहाँ श्रीमती एनी बेसेंट ने होमरूल लीग की स्थापना की।

(2) दिए गए उसी मानचित्र पर निम्नलिखित को अंकित कीजिए तथा उसका नाम भी लिखिए—

(C) वह स्थान जहाँ से बी.आर. अंबेडकर सम्बन्ध रखते हैं।

**Alternate question for visually challenged students**

**in lieu of Question Number 28**

**प्र.सं. 28 के स्थान पर दृष्टिबाधित विद्यार्थियों के लिए वैकल्पिक प्रश्न**

28.1 Name the place from where Dandi March started in 1930.

28.2 Name the place where formation of Indian National Congress took place.

28.3 Name the state which Mahatma Gandhi belonged to

28.1 वह स्थान जहाँ से 1930 में दांडी मार्च का आरंभ हुआ।

28.2 वह स्थान जहाँ भारतीय नेशनल कांग्रेस का गठन हुआ।

28.3 वह राज्य जहाँ से महात्मा गाँधी का संबंध है।

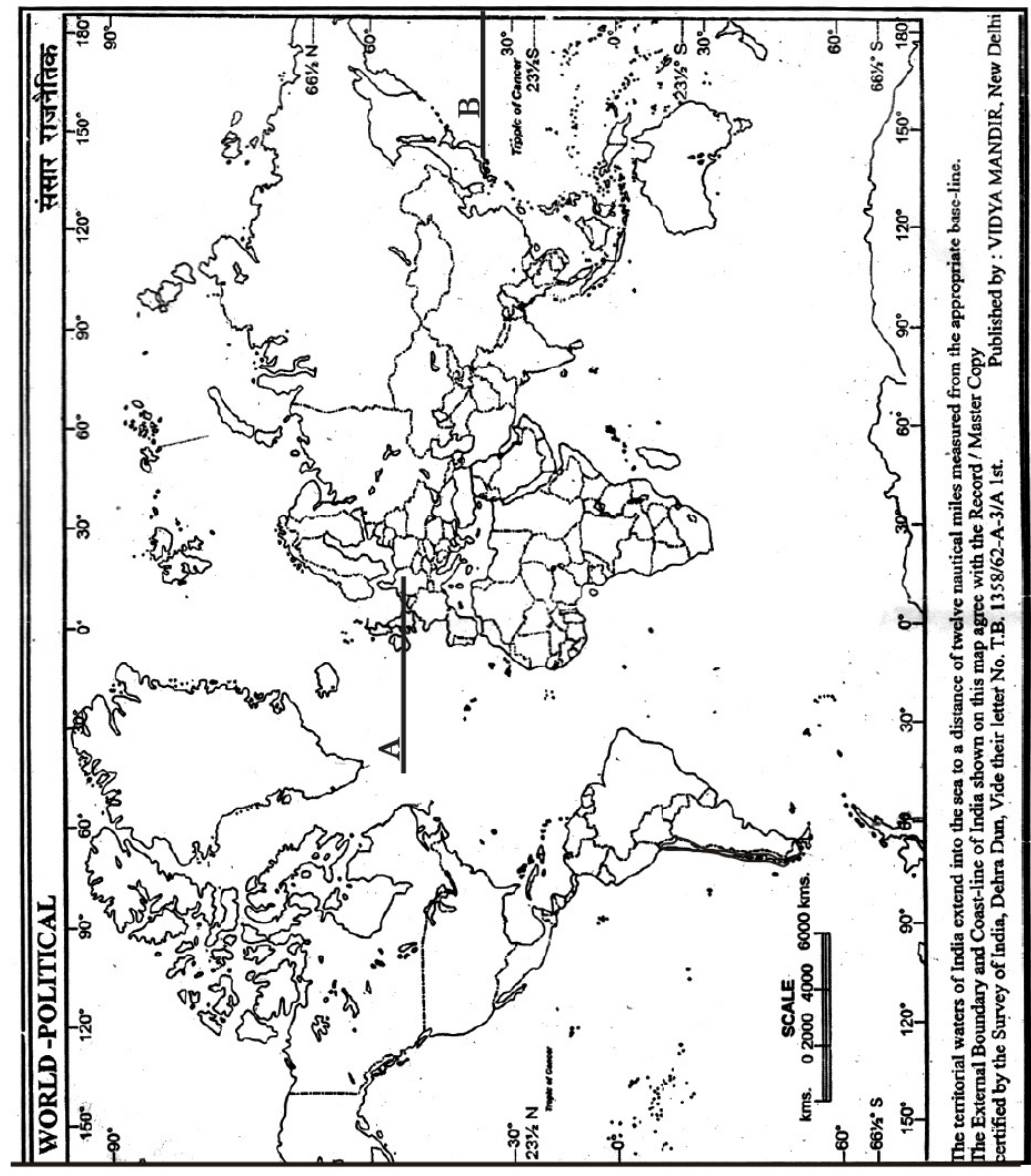


Name \_\_\_\_\_ Class \_\_\_\_\_ Roll No. \_\_\_\_\_

नाम ..... कक्षा ..... अनुक्रमांक .....

Q. 27 Map

प्रश्न संख्या 27 मानचित्र

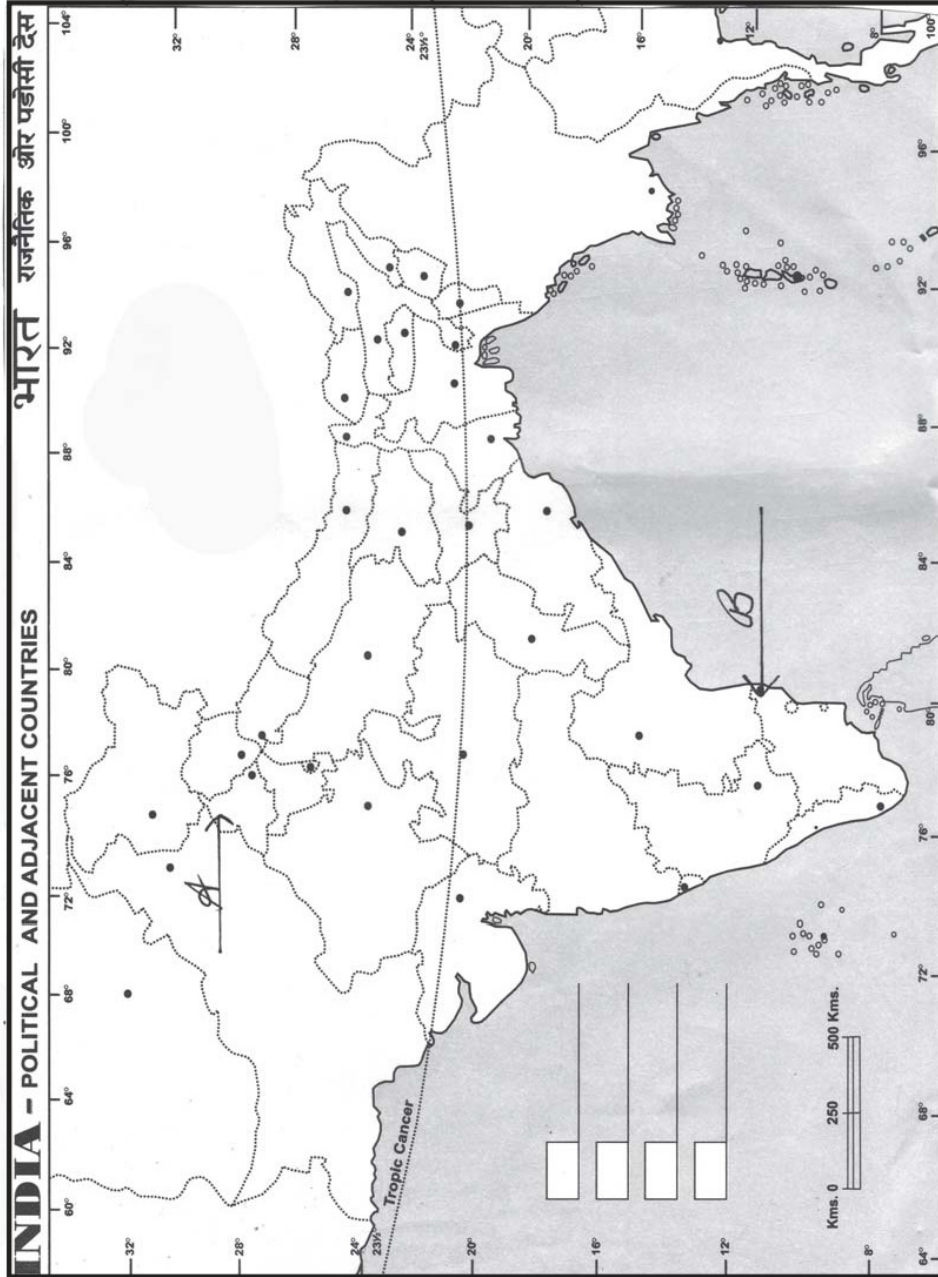


Name \_\_\_\_\_ Class \_\_\_\_\_ Roll No. \_\_\_\_\_

नाम ..... कक्षा ..... अनुक्रमांक .....

Q. 28 Map

प्रश्न संख्या 28 मानचित्र



1. What percentage of land on earth should be under forest cover to maintain an ecological balance in the world ? (1)

विश्व में पारिस्थितिकीय संतुलन को बनाए रखने के लिए कितने प्रतिशत भूमि पर वन आवरण होना चाहिए?

2. Name any one state of North East India where the density of population is less than 250 persons per square kilometre. (1)

उत्तर-पूर्व भारत के किसी एक राज्य का नाम लिखिए जहाँ जनसंख्या घनत्व 250 व्यक्ति प्रति वर्ग किलोमीटर से कम है।

3. Which policy of Dalhousie created fear and resentment amongst Indian rulers ? (1)

डलहौजी की किस नीति ने भारतीय शासकों में भय और असंतोष पैदा किया?

4. Which act empowered the British government to arrest any Indian without warrant and imprison people without trial ? (1)

ब्रिटिश सरकार के किस अधिनियम ने भारतीयों को बिना वारंट के गिरफ्तार करने और बिना मुकदमे के जेल में डालने की शक्ति प्रदान की थी?

5. Write the name of the first Deputy Prime Minister of free India. (1)

स्वतंत्र भारत के पहले उप-प्रधानमंत्री का नाम लिखिए।

6. Name any two residuary subjects. (1)

किन्हीं दो अवशिष्ट विषयों के नाम लिखिए।

7. Rajan is not a member of either house of the Parliament of India, but has been appointed a minister. For how many months can he continue in his office before which he has to secure a seat in either house of the Parliament ? (1)

राजन संसद के किसी भी सदन का सदस्य नहीं है, पर अब उसको एक मंत्री बना दिया गया है। मंत्री पद पर जारी रहने के लिए उसे कितने महीनों से पहले दोनों सदनों में से किसी एक का सदस्य बनना आवश्यक है?

8. Explain the function of Supreme Court as a 'Court of Record'. (1)

'अभिलेख न्यायालय' के रूप में सर्वोच्च न्यायालय के कार्य को स्पष्ट कीजिए।

9. Name the single largest minority community in India. (1)

भारत के सबसे बड़े अल्पसंख्यक समुदाय का नाम लिखिए।

10. Analyse any three reasons for the criticism of 'large dams' by the environmentalists. (3)

'बड़े बाँधों' की पर्यावरणविदों द्वारा आलोचना किए जाने के किन्हीं तीन कारणों का विश्लेषण कीजिए।

11. Define 'soil conservation'. Suggest any two measures to conserve soil. (1+2=3)

'मृदा संरक्षण' को परिभाषित कीजिए। मृदा संरक्षण के लिए कोई दो उपाय सुझाइये।

12. Raman wants to establish an iron and steel industry in India. Which city should he select and explain the reasons for his choosing this location. (1+2=3)

रमन भारत में लोहा-इस्पात उद्योग स्थापित करना चाहता है, इसके लिए उसे कौन-सा क्षेत्र चुनना चाहिए तथा उस क्षेत्र को चुनने के कारण भी स्पष्ट कीजिए।

13. Explain any three reasons for the decline of sex ratio in India. (3)

भारत में लिंग अनुपात में गिरावट के किन्हीं तीन कारणों की व्याख्या कीजिए।

14. State any three provisions of 'The Government of India Act-1935. (3)

भारत सरकार अधिनियम 1935 के किन्हीं तीन प्रावधानों का उल्लेख कीजिए।

15. State any two challenges that India had to face post independence. Suggest any two measure to overcome these challenges. (1+2= 3)

स्वतंत्रता के बाद भारत के समक्ष उपस्थित किन्हीं दो चुनौतियों का उल्लेख कीजिए। इन चुनौतियों पर काबू पाने के लिए कोई दो उपाय सुझाइये।

16. Explain any three differences between the composition of Lok Sabha and Rajya Sabha. (1½+1½=3)

लोकसभा तथा राज्यसभा की रचना के बीच कोई तीन अंतर स्पष्ट कीजिए।

17. Describe any three financial powers of the Union Parliament of India. (3)

भारत संघ की संसद की किन्हीं तीन वित्तीय शक्तियों का वर्णन कीजिए।

18. "The Bishnois are famous for being environmental conservationists." Highlight any two ways through which this community has contributed to the environment and the message they want to spread to the world through it. (2+1=3)

"बिश्नोई समुदाय पर्यावरण संरक्षण के लिए प्रसिद्ध है।" उनके द्वारा पर्यावरण संरक्षण में दिए गए योगदान के किन्हीं दो तरीकों को उजागर कीजिए तथा वह इसके माध्यम से विश्व को क्या संदेश देना चाहते हैं?

19. Describe any three programmes launched by the Government of India for the upliftment of the weaker sections of the society. (1+1+1=3)

समाज के कमजोर वर्गों के उत्थान के लिए भारत सरकार द्वारा शुरू किए गए किन्हीं तीन कार्यक्रमों का वर्णन कीजिए।

20. Assess the importance of non-conventional sources of energy in the interest of future generations. Explain the progress made by India in enhancing use of non-conventional sources of energy with the help of any two examples. (3+2=5)

भावी पीढ़ी के हित में गैर-परम्परागत ऊर्जा के स्रोतों के महत्त्व का आंकलन कीजिए तथा किन्हीं दो उदाहरणों की सहायता से भारत में इनके बढ़ते इस्तेमाल की व्याख्या कीजिए।

21. Highlight any five features of the plantation agriculture. (5)

रोपण कृषि की किन्हीं पाँच विशेषताओं को उजागर कीजिए।

22. Critically analyse the British interference in the socio-religious matters of the Indians which led to the revolt of 1857. (5)

भारत के सामाजिक और धार्मिक मामलों में ब्रिटिश हस्तक्षेप का विश्लेषण कीजिए जो 1857 के विद्रोह का कारण बना।

23. "The Printing Press played a pivotal role in mobilising public opinion." Justify the statement with suitable arguments. (5)

"प्रिंटिंग प्रेस ने जनमत निर्मित करने में महत्त्वपूर्ण भूमिका निभाई थी।" उपयुक्त तर्क देकर इस कथन की पुष्टि कीजिए।

24. Describe any five major changes brought about in Calcutta after it became the British Capital. (5)

ब्रिटिश राजधानी बनने के बाद कोलकाता में हुए किन्हीं पाँच मुख्य परिवर्तनों का वर्णन कीजिए।

25. Describe any two executive and three emergency powers of the President of India. (2+3=5)

भारत के राष्ट्रपति की किन्हीं दो कार्यपालिका एवं तीन आपातकालीन शक्तियों का वर्णन कीजिए।

26. Describe any 5 powers and functions of the Supreme Court in India. (5)

भारत के सर्वोच्च न्यायालय के किन्हीं पाँच कार्यों अथवा शक्तियों का उल्लेख कीजिए।

27. (1) Two features A and B are shown in the political map of the world. Identify the features with the help of the following information and write their correct names on the line marked on the map. (3)

(A) Any one important copper producing country of Africa

(B) An important coal producing country of Europe

(2) On the same political map of the world, locate and label the following items with appropriate symbols.

(C) Canada – An important cotton textile producing country of North America

1. संसार के राजनैतिक रेखा मानचित्र पर दो लक्षण A और B दर्शाए गए हैं। नीचे दी गई सूचना के आधार पर उन्हें पहचानिए तथा उनके सही नाम दी गई रेखाओं पर लिखिए।
  - (A) अफ्रीका का एक महत्वपूर्ण तांबा उत्पादक देश।
  - (B) यूरोप का एक महत्वपूर्ण कोयला उत्पादक देश।
2. दिए गए उसी संसार के राजनैतिक मानचित्र पर निम्नलिखित को उपयुक्त चिह्नों द्वारा दिखाइए तथा नाम लिखिए—
  - (C) कनाडा – उत्तरी अमेरिका का एक महत्वपूर्ण सूती वस्त्र उत्पादक देश।

**Alternate question for visually challenged students  
in lieu of Question Number 27**

**प्र.सं. 27 के स्थान पर दृष्टिबाधित विद्यार्थियों के लिए वैकल्पिक प्रश्न**

- 27.1 Name any one important petroleum producing country in North America.
  - 27.2 Name any important bauxite producing country in South America.
  - 27.3 Which country in Asia is an important producer of Iron ?
  - 27.1 उत्तरी अमेरिका के एक महत्वपूर्ण पेट्रोल उत्पादक देश का नाम लिखिए।
  - 27.2 दक्षिण अमेरिका के एक महत्वपूर्ण बॉक्साइट उत्पादक देश का नाम लिखिए।
  - 27.3 एशिया के एक महत्वपूर्ण लोहा उत्पादक देश का नाम लिखिए।
28. (1) Two features (A) and (B) are shown in the political map of India. Identify the features with the help of the following information and write their correct names on the line marked on the map. (3)
- (A) The place where Ms. Annie Besant established the Home Rule League in India.
  - (B) The place where Gandhiji made salt from the sea water and broke the British law.



- (2) On the same political map of India, locate and label the following place  
(C) The state to which B.R. Ambedkar belonged
- (1) भारत के राजनैतिक मानचित्र पर दो लक्षण A तथा B दर्शाए गए हैं। नीचे दी गई जानकारी के आधार पर उन्हें पहचानिए तथा उनके सही नाम मानचित्र पर खींची गई रेखाओं पर लिखिए।
- (A) वह स्थान जहाँ एनी बीसेंट ने होमरूल लीग की स्थापना की थी।
- (B) वह स्थान जहाँ गाँधी जी ने समुद्र के पानी से नमक बनाया था और ब्रिटिश कानून को तोड़ा था।
- (2) दिए गए उसी मानचित्र पर निम्नलिखित को अंकित कीजिए तथा उसका नाम भी लिखिए—
- (C) वह राज्य जहाँ से बी.आर. अंबेडकर सम्बन्धित थे।

**Alternate question for visually challenged students**

**in lieu of Question Number 28**

प्र.सं. 28 के स्थान पर दृष्टिबाधित विद्यार्थियों के लिए वैकल्पिक प्रश्न

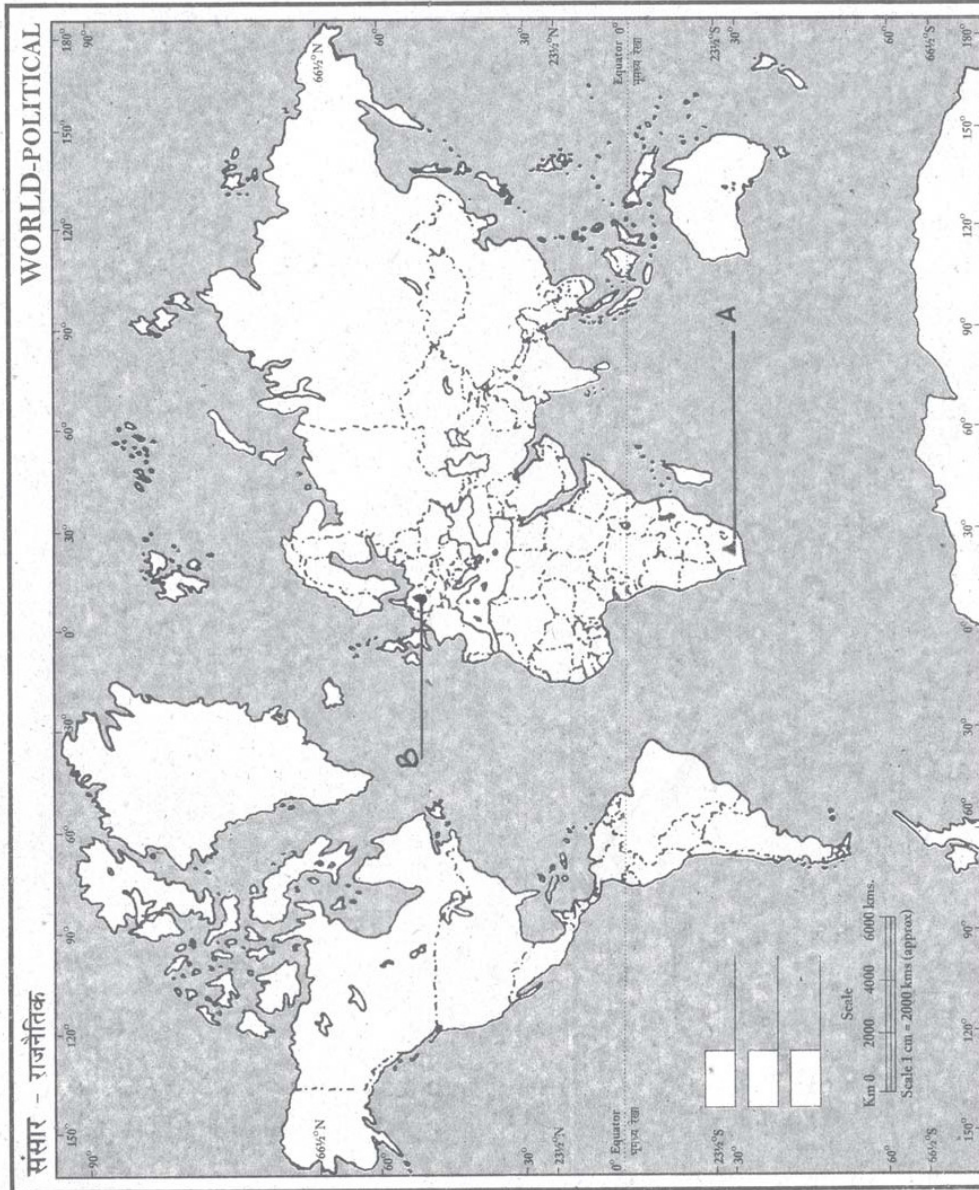
- 28.1 Name the state to which Jyotiba Phule belonged
- 28.2 Name the place where the Indian National Congress was formed
- 28.3 Name the place where the Division of Congress took place in 1907
- 28.1 उस राज्य का नाम लिखिए जिससे ज्योतिबा फुले सम्बन्धित थे।
- 28.2 वह स्थान जहाँ भारतीय राष्ट्रीय कांग्रेस की स्थापना हुई थी।
- 28.3 वह स्थान जहाँ 1907 में कांग्रेस का विभाजन हुआ था।

Name \_\_\_\_\_ Class \_\_\_\_\_ Roll No. \_\_\_\_\_

नाम ..... कक्षा ..... अनुक्रमांक .....

Q. 27 Map

प्रश्न संख्या 27 मानचित्र

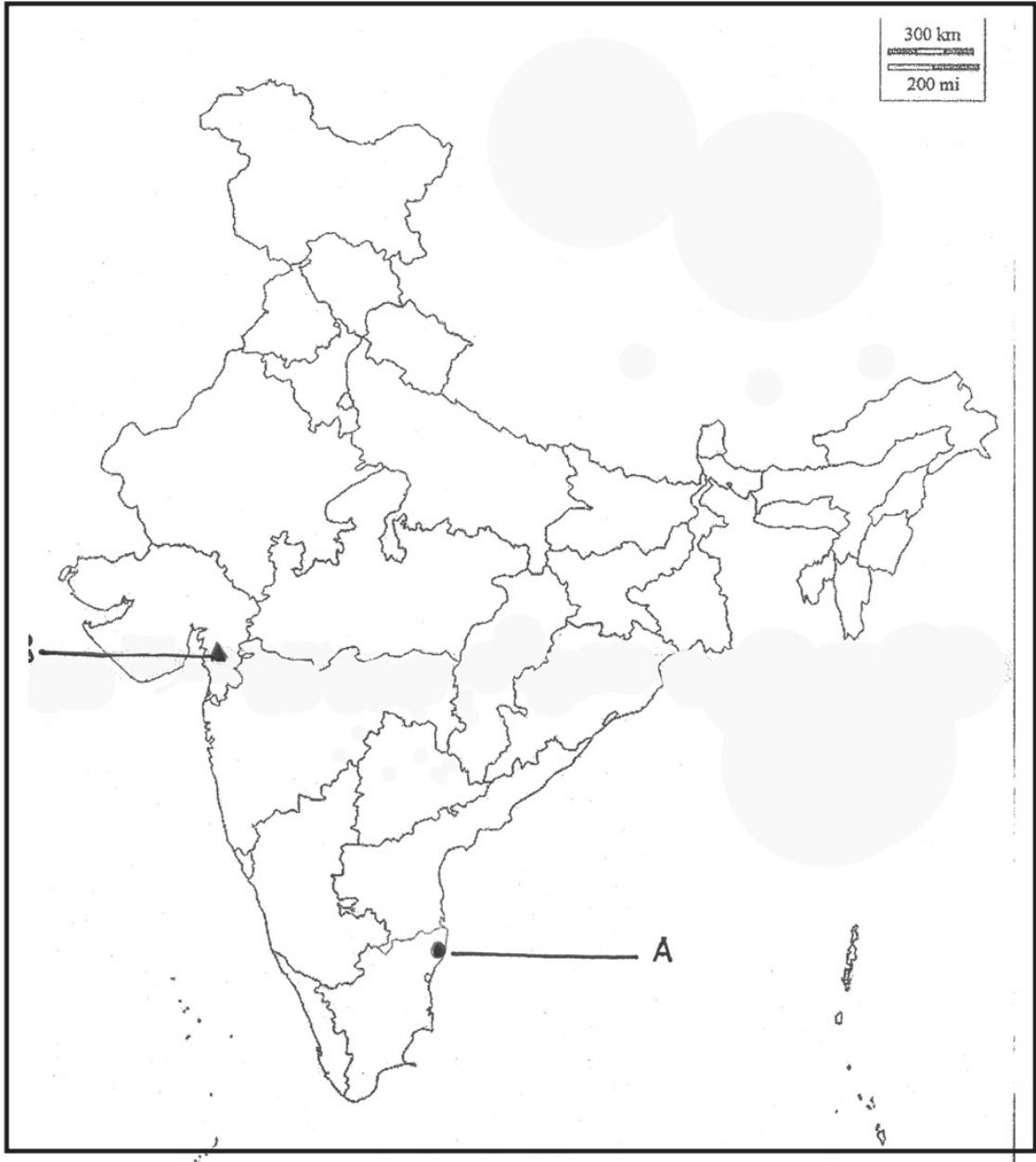


Name \_\_\_\_\_ Class \_\_\_\_\_ Roll No. \_\_\_\_\_

नाम ..... कक्षा ..... अनुक्रमांक .....

Q. 28 Map

प्रश्न संख्या 28 मानचित्र



## Paper -4

Maximum Marks : 80

1. State any two things that can be converted into biogas.  $\frac{1}{2}+\frac{1}{2}=1$

ऐसी किन्हीं दो चीजों के नाम लिखिए जिन्हें बायोगैस में परिवर्तित किया जा सकता है।

2. Highlight one major reason for setting up of multi-national companies in India. 1

भारत में बहुराष्ट्रीय कंपनियों की स्थापना के लिए एक प्रमुख कारण को उजागर कीजिए।

3. Name any two Indian literary personalities who were influenced by the pattern of English writing.  $\frac{1}{2}+\frac{1}{2}=1$

अंग्रेजी लेखन की पद्धति से प्रभावित किन्हीं दो साहित्यिक भारतीय व्यक्तियों के नाम लिखिए।

4. Mention any one feature of 'India Vision 2020'. 1

'इंडिया विजन 2020' के किसी एक बिंदु का उल्लेख कीजिए।

5. When did India became a republic ? Mention date and year. 1

भारत कब गणतंत्र बना? तिथि और वर्ष लिखिए।

6. On which subjects can Parliament Legislate other than the subjects of Union List ?  $\frac{1}{2}+\frac{1}{2}=1$

संसद में 'संघीय सूची' के विषयों के अतिरिक्त किन विषयों पर कानून बनाए जा सकते हैं?

7. Which court in India takes up the cases of election disputes of MP or MLA ?

1

भारत में कौन सी अदालत एमपी या एम.एल.ए. के चुनाव विवादों के मामलों को सुनती है?

8. Name the spiritual mentor of the Bishnois. 1

बिश्नोई प्रजाति के आध्यात्मिक गुरु का नाम लिखिए।

9. Explain the meaning of minor communities. 1

अल्पसंख्यक समुदायों का अर्थ स्पष्ट कीजिए।

10. 'Vegetation cover affects the soil formation and its fertility'. Explain the statement.  $1\frac{1}{2}+1\frac{1}{2}=3$

'वनस्पति आवरण मृदा के गठन और इसकी उपजाऊ क्षमता को प्रभावित करता है'। इस कथन को स्पष्ट कीजिए।

11. Describe any three welfare steps taken by the Indian government to improve the conditions of farmers.  $3\times 1=3$

किसानों की स्थिति में सुधार के लिए भारत सरकार द्वारा उठाए गए किन्हीं तीन कल्याणकारी कदमों का वर्णन कीजिए।

12. State any three differences between public sector and private sector industries.  $3\times 1=3$

सार्वजनिक क्षेत्र एवं निजी क्षेत्र के उद्योगों के बीच कोई तीन अंतर लिखिए।

13. Analyse any two reasons for the high concentration of population in different regions of the world.  $1\frac{1}{2}+1\frac{1}{2}=3$

विश्व के विभिन्न क्षेत्रों में आबादी के अधिक घनत्व के किन्हीं दो कारणों का विश्लेषण कीजिए।

14. "The policy of economic exploitation and the destruction of the traditional Indian economic structure by the British caused widespread resentment among Indians." Justify the statement with three suitable arguments.  $3 \times 1 = 3$

“अंग्रेजों द्वारा आर्थिक शोषण की नीति और पारंपरिक भारतीय आर्थिक संरचना के विनाश के कारण भारतीयों के बीच व्यापक असंतोष पैदा हुआ”। तीन तर्कों द्वारा इस कथन की पुष्टि कीजिए।

15. Evaluate the impact of the introduction of railways by the British on the lives of Indians.  $3 \times 1 = 3$

अंग्रेजों द्वारा रेलवे शुरू करने से भारतीयों के जीवन पर हुए प्रभाव का मूल्यांकन कीजिए।

16. "The Lok Sabha is more powerful than the Rajya Sabha". Do you agree with this statement? Support your answer with two arguments.  $1 + 1 + 1 = 3$

“लोकसभा राज्य सभा से ज्यादा शक्तिशाली है।” क्या आप इस कथन से सहमत हैं? अपने उत्तर के समर्थन में कोई दो तर्क दीजिए।

17. Explain the position of the President of India in our parliamentary form of government.  $3 \times 1 = 3$

हमारी संसदीय लोकतंत्र प्रणाली में भारत के राष्ट्रपति पद की व्याख्या कीजिए।

18. Examine any two constitutional provisions of the reservation policy.  $1\frac{1}{2} + 1\frac{1}{2} = 3$

आरक्षण नीति के किन्हीं दो संवैधानिक प्रावधानों की जांच कीजिए।

19. Suggest any three measures to make Swachh Bharat Mission successful.  $3 \times 1 = 3$

स्वच्छ भारत मिशन को सफल बनाने के लिए कोई तीन उपाय सुझाइये।

20. Suggest any five methods to prevent soil erosion.  $5 \times 1 = 5$

भू-क्षरण को रोकने के लिए कोई पाँच तरीके सुझाइए।

21. Explain the term 'Literacy rate'. How is it an important indication of development ?  $2+3=5$

साक्षरता दर को परिभाषित कीजिए। यह किस प्रकार 'विकास' का एक महत्वपूर्ण सूचक है?

22. In your opinion, what preparations should have been made to make the first war of independence a success ? Explain.  $5 \times 1 = 5$

आपके विचार से प्रथम स्वतंत्रता संग्राम को सफल बनाने के लिए क्या तैयारी की जानी चाहिए थी? स्पष्ट कीजिए।

23. Describe any five distinct features of the city of Calcutta as developed by the British in India.  $5 \times 1 = 5$

भारत में अंग्रेजों द्वारा विकसित कलकत्ता शहर की किन्हीं पाँच विशिष्ट विशेषताओं का वर्णन कीजिए।

24. Describe any five protest activities used during the Swadeshi Movement.  $5 \times 1 = 5$

स्वदेशी आंदोलन के दौरान उपयोग की गई किन्हीं पाँच विरोध गतिविधियों का वर्णन कीजिए।

25. State the composition of the Union Council of Ministers. Elaborate the procedure for appointment of the Council of Ministers.  $2+3=5$

केंद्रीय मंत्री परिषद की संरचना लिखिए। मंत्री परिषद की नियुक्ति की प्रक्रिया को विस्तार से स्पष्ट कीजिए।

26. Describe any five powers and functions of High Court. 5×1=5

उच्च न्यायालय के पाँच कार्यों एवं शक्तियों का वर्णन कीजिए।

27. (1) Two features (A) and (B) are marked on the given political map of the world. Identify these features with the help of following information and write their names on the lines marked on the map. 3

(A) An important Copper producing country in South America.

(B) An important Cotton textile manufacturing country in Europe.

(2) On the same political map of the world, locate and label the following with appropriate symbol.

(C) An important iron and steel manufacturing country of South America.

(1) संसार के राजनीतिक रेखा मानचित्र पर दो बिंदु (A) तथा (B) दर्शाए गए हैं। नीचे दी गई सूचना के आधार पर उन्हें पहचानिए तथा उनके सही नाम मानचित्र में खींची गई रेखाओं पर लिखिए।

(A) दक्षिण अमेरिका में एक महत्त्वपूर्ण तांबा उत्पादक देश।

(B) यूरोप में एक महत्त्वपूर्ण सूती कपड़ा उत्पादक देश।

(2) दिए गए उसी संसार के राजनीतिक मानचित्र पर निम्नलिखित को उपयुक्त चिह्नों द्वारा दिखाइए तथा उसका नाम लिखिए—

(C) दक्षिण अमेरिका में एक महत्त्वपूर्ण लोहा और इस्पात उत्पादक देश।

**Alternate question for the visually challenged students in lieu of Q. No. 27**

प्र.सं. 27 के स्थान पर केवल दृष्टिबाधित विद्यार्थियों के लिए वैकल्पिक प्रश्न

27.1 Name an important iron producing country of North America.



27.2 Name the cotton manufacturing country of Africa.

27.3 Which is an important iron and steel manufacturing country of Asia ?

27.1 उत्तरी अमेरिका के एक महत्वपूर्ण लौह उत्पादक देश का नाम।

27.2 अफ्रीका के सूती कपड़ा उत्पादक देश का नाम लिखिए।

27.3 एशिया का महत्वपूर्ण लोहा और इस्पात उत्पादक देश कौन सा है?

28. (1) Two features (A) and (B) are marked on the given political map of India. Identify these features with the help of information given below and write their names on the line marked in the map. 3

(A) The place to which Periyar E.V. Ramasamy belonged.

(B) The place to which B.R. Ambedkar belonged.

(2) On the same political map of India, locate and label the following place :

(C) The place associated with Jallianwala Bagh Massacre.

(1) दिए गए भारत के राजनीतिक रेखा मानचित्र पर दो बिंदु (A) तथा (B) दर्शाए गए हैं। नीचे दी गई जानकारी के आधार पर उन्हें पहचानिए तथा उनके सही नाम मानचित्र में खींची गई रेखाओं पर लिखिए।

(A) वह राज्य जहाँ से पेरियार इ.वी. रामसामी संबंध रखते हैं।

(B) वह राज्य जहाँ से बी.आर. अम्बेडकर सम्बन्ध रखते हैं।

(2) दिए गए उसी 'राजनीतिक रेखा मानचित्र' पर निम्नलिखित को अंकित कीजिए तथा उसका नाम भी लिखिए—

(C) जलियाँवाला बाग नरसंहार के साथ संबंधित स्थान।

**Alternative question for visually challenged students in lieu of Q. No. 28**

प्र.सं. 28 के स्थान पर केवल दृष्टिबाधित विद्यार्थियों के लिए वैकल्पिक प्रश्न

28.1 Name the place where Home Rule League was established.

28.2 Name the place where the Congress split in 1907.

28.3 Name the place where the Indian National Congress was formed.

28.1 उस स्थान का नाम लिखिए जहाँ होम रूल लीग की स्थापना हुई थी।

28.2 उस स्थान का नाम लिखिए जहाँ 1907 में कांग्रेस का विभाजन हुआ था।

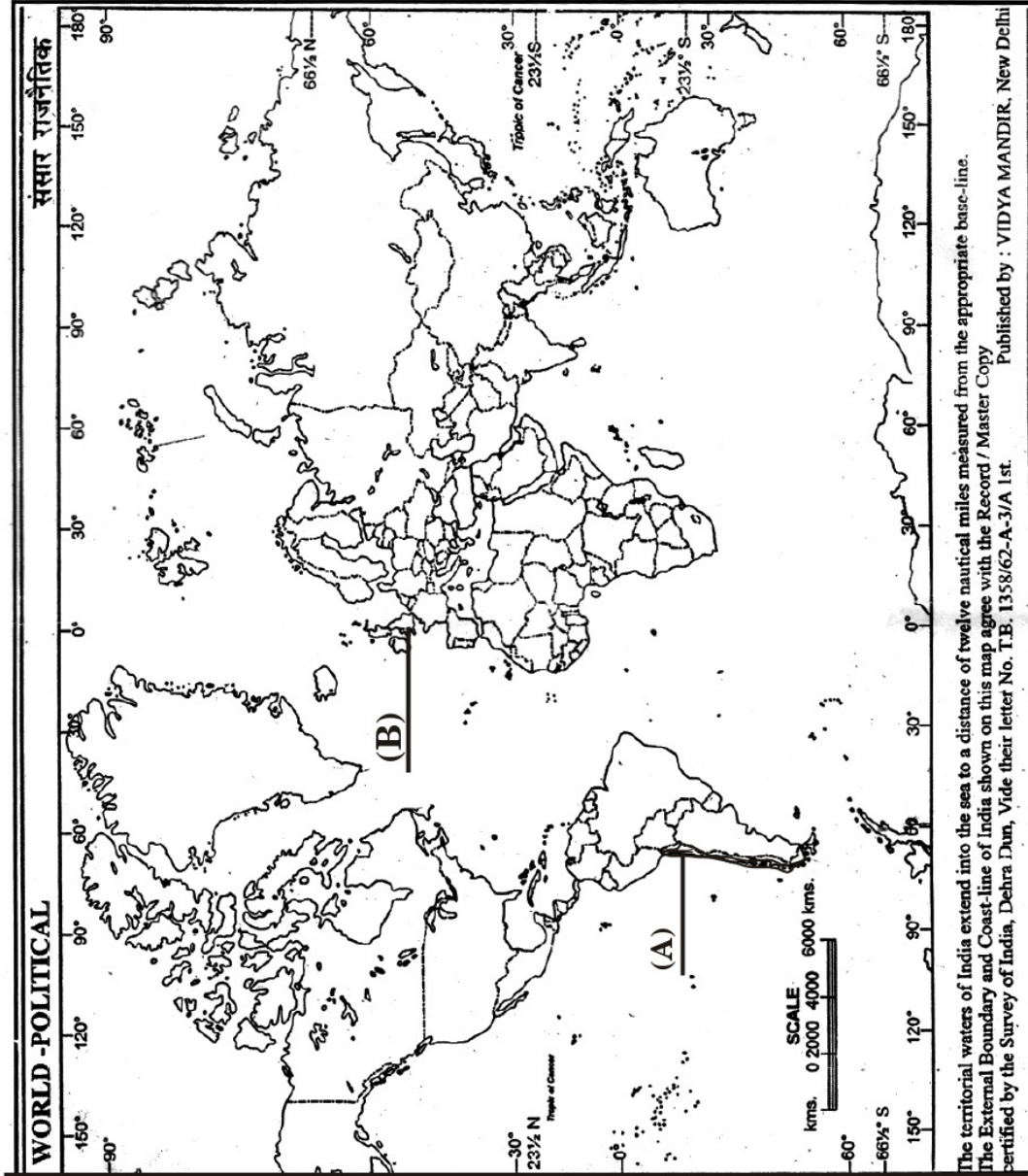
28.3 उस स्थान का नाम लिखिए जहाँ से भारतीय राष्ट्रीय कांग्रेस की स्थापना हुई थी।

Name \_\_\_\_\_ Class \_\_\_\_\_ Roll No. \_\_\_\_\_

नाम ..... कक्षा ..... अनुक्रमांक .....

Q. 27 Map

प्रश्न संख्या 27 मानचित्र

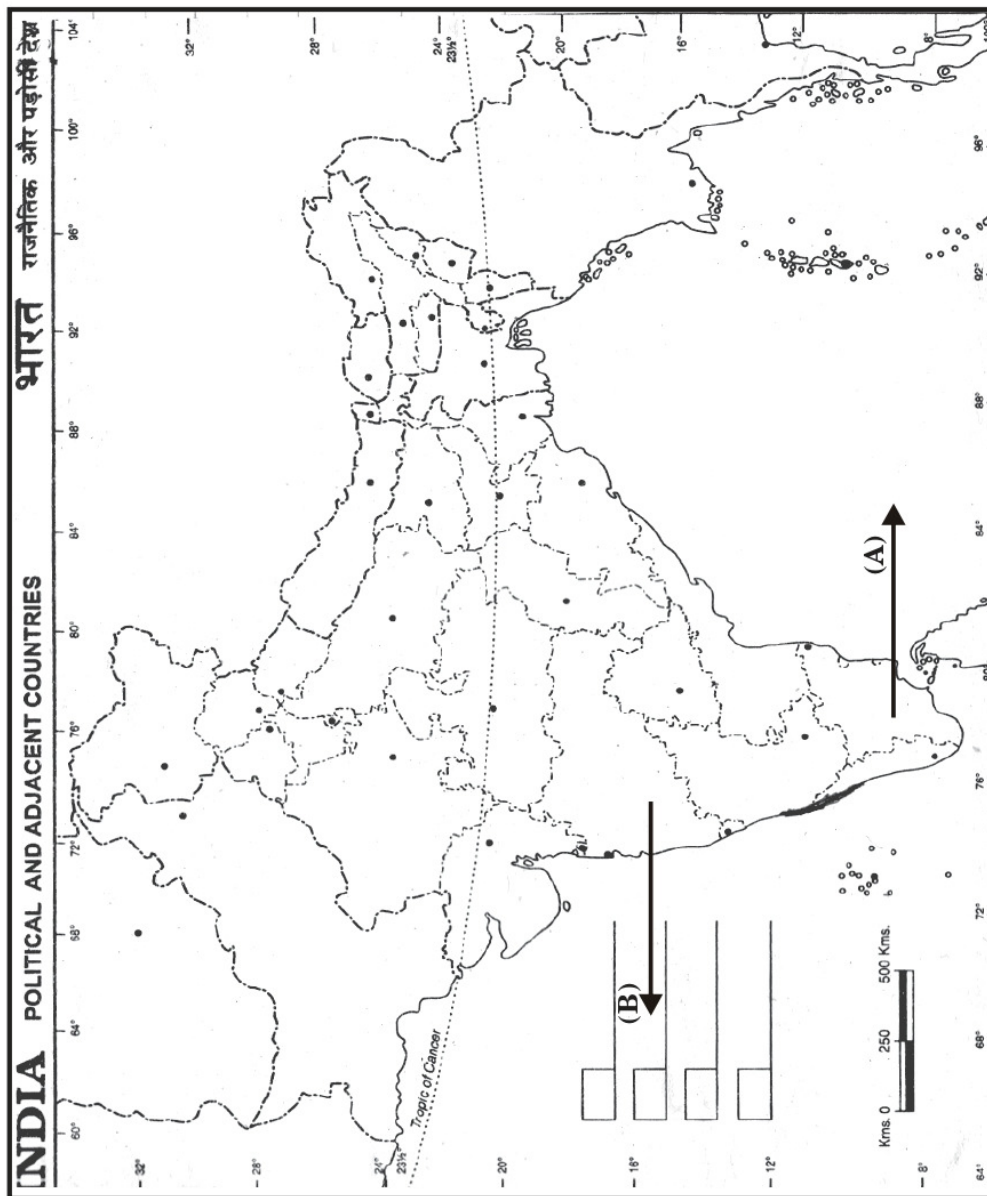


Name \_\_\_\_\_ Class \_\_\_\_\_ Roll No. \_\_\_\_\_

नाम ..... कक्षा ..... अनुक्रमांक .....

Q. 28 Map

प्रश्न संख्या 28 मानचित्र



## Paper -5

Maximum Marks : 100

1. (a) Why are coastal areas ideal for generation of wind energy? 1  
तटीय क्षेत्र पवन ऊर्जा उत्पन्न करने के लिए अति उपयुक्त क्यों है?
- (b) Name any one natural agent of Soil erosion. 1  
मृदा अपरदन के एक प्राकृतिक कारक का नाम लिखिए।
- (c) What is meant by 'Ore'? 1  
'अयस्क' से क्या अभिप्राय है?
- (d) Why is Solar energy called a non-conventional source of energy? 1  
सौर-ऊर्जा को गैर परंपरागत ऊर्जा का स्रोत क्यों कहा जाता है?
- (e) Name the chief architect who designed New Delhi. Which area was selected for this purpose?  $\frac{1}{2}+\frac{1}{2}=1$   
उस प्रमुख वास्तुकार का नाम लिखिए जिसने नई दिल्ली की वास्तु योजना बनाई थी और इस के लिए कौन सा स्थान चुना गया?
- (f) Which positions did Lord Mountbatten hold of immediately before and after independence of India in 1947?  $\frac{1}{2}+\frac{1}{2}=1$   
1947 में भारत की स्वतंत्रता से पूर्व तथा पश्चात, लार्ड माउंटबेटन किन पदों पर आसीन थे?
- (g) After Independence why had many people predicted that India, would not be able to work as a united democratic country? 1  
आज़ादी के बाद बहुत लोगों ने यह भविष्यवाणी क्यों की थी कि भारत एक अखंड लोकतांत्रिक देश के रूप में कार्य नहीं कर पाएगा?
- (h) Mr. Adarsh filed his nomination paper for the post of the President of India. He is a responsible citizen of India who has completed 30 years of age. On scrutiny, his nomination paper were rejected. Give one possible reason. 1  
मिस्टर आदर्श ने भारत के राष्ट्रपति पद के लिए उम्मीदवार के रूप में अपना नामांकन पत्र दाखिल किया। वह भारत के 30 वर्षीय जिम्मेदार नागरिक हैं। जांच करने पर उनका नामांकन पत्र रद्द कर दिया गया। कोई एक कारण लिखिए।

(i) Why cannot the Vice-President of India participate in voting in the Rajya Sabha? 1

भारत का उपराष्ट्रपति राज्य सभा की मतदान प्रक्रिया में क्यों भाग नहीं ले सकता है?

(j) Evasion of Income tax comes under which category of judicial cases? 1

आयकर का भुगतान न किया जाना किस प्रकार के न्यायिक मामले के अंतर्गत आता है?

2. Analyse any three geographical factors which make agricultural development possible in different regions of the world. 3×1=3

संसार के विभिन्न क्षेत्रों में कृषि विकास को संभव बनाने वाले किन्हीं तीन भौगोलिक कारकों का विश्लेषण कीजिए।

3. Sakshi went to see tea plantation in Assam, where she observed that it is a single crop farming. Identify and write other three characteristics of this type of farming. 3×1=3

साक्षी आसाम में चाय के बगान देखने गई, वहाँ जाकर उसने देखा कि यह एक एकल प्रकार की कृषि है। इस प्रकार की कृषि की और तीन विशेषताओं को पहचानिए एवं लिखिए।

4. Highlight any three reasons responsible for energy crisis. 3×1=3

ऊर्जा संकट के लिए उत्तरदायी किन्हीं तीन कारणों को उजागर कीजिए।

5. "Non-conventional sources of energy are fuel of the future". Justify the statement with any three suitable arguments. 3×1=3

‘गैर परंपरागत ऊर्जा के साधन हमारे भविष्य के ईंधन हैं।’ इस कथन को किन्हीं तीन उपयुक्त तर्कों द्वारा न्यायसंगत ठहराइए।

6. Explain any three positive effects of British system of Education in India. 3×1=3

भारत में ब्रिटिश शिक्षा-प्रणाली के किन्हीं तीन सकारात्मक प्रभावों की व्याख्या कीजिए।

7. Evaluate the role of Jyotiba Phule as social reformer to improve the Indian society. 3  
 भारतीय समाज सुधार हेतु एक सुधारक के रूप में ज्योतिबा फुले के योगदान का मूल्यांकन कीजिए।
8. Which were the two main resolutions passed at session of congress in 1929?  $1\frac{1}{2}+1\frac{1}{2}=3$   
 1929 में हुए कांग्रेस के लाहौर अधिवेशन में किन दो मुख्य प्रस्तावों को पारित किया गया?
9. When, where and between whom was the first carnatic war fought? Which warring faction won the war? 2+1=3  
 प्रथम कर्नाटक युद्ध कब, कहां और किन के बीच लड़ा गया? युद्ध करने वालों में विजयी कौन हुआ?
10. 'President of India is just a nominal executive, not a real executive.' Do you agree with the statement? Support your answer with any three suitable arguments. 3×1=3  
 'भारत का राष्ट्रपति केवल नाममात्र की कार्यपालिका है, न कि वास्तविक कार्यपालिका।' क्या आप इस कथन से सहमत हैं? किन्हीं तीन उपयुक्त तर्कों द्वारा अपने उत्तर की पुष्टि कीजिए।
11. Describe the three stages of making a law in the Indian Parliament. 3×1=3  
 भारतीय संसद में कानून बनाने की प्रक्रिया के तीन सोपानों का वर्णन कीजिए।
12. If no single party gets a clear majority in the Lok Sabha elections how is the Prime Minister of India appointed? Explain. 3  
 यदि लोकसभा चुनाव में किसी भी पार्टी को पूर्ण बहुमत नहीं मिलता है, तब ऐसी स्थिति में प्रधानमंत्री की नियुक्ति कैसे होती है?
13. "It is said that justice delayed is justice denied." In the light of this statement, highlight the role of Lok Adalats in India. 3  
 "न्याय प्रदान करने में देरी करना, न्याय न देने के समान है।" इस कथन के संदर्भ में भारत में लोक अदालत की भूमिका को उजागर कीजिए।
14. Justify the special provision of protective discrimination to achieve social justice in India with the help of examples. 3  
 भारत में सामाजिक न्याय की स्थापना के लिए सुरक्षात्मक भेदभाव के विशेष प्रावधान को उदाहरण देकर उचित ठहराइए।

15. Sahil is planning to establish a cotton industry in Ahmedabad. In your opinion, which five factors favour his decision? 5×1=5  
साहिल अहमदाबाद में एक सूती वस्त्र उद्योग स्थापित करने की योजना बना रहा है। आप की राय में, कौन से पाँच कारक उसके निर्णय के पक्ष में जाते हैं?
16. Describe any five factors responsible for uneven distribution of population in the world. 5×1=5  
विश्व में जनसंख्या के असमान वितरण के लिए उत्तरदायी किन्हीं पाँच कारकों का वर्णन कीजिए।
17. How topography and climate of a region affect the formation of soil? Explain.  $2\frac{1}{2}+2\frac{1}{2}=5$   
किसी प्रदेश की स्थलाकृति एवं जलवायु किस प्रकार मृदा निर्माण को प्रभावित करते हैं? स्पष्ट कीजिए।
18. Analyse any five main demands of the moderate group of the Congress. 5×1=5  
कांग्रेस के नरम दल की पाँच मुख्य माँगों का विश्लेषण कीजिए।
19. Highlight the main provisions of Indian Independence Act, 1947. 5  
भारतीय स्वतंत्रता अधिनियम, 1947 के प्रमुख प्रावधानों पर प्रकाश डालिए।
20. Explain the causes and the consequences of the second Anglo-Mysore War of 1780-1784.  $2\frac{1}{2}+2\frac{1}{2}=5$   
द्वितीय आंग्ल-मैसूर संघर्ष (1780-1784) के प्रमुख कारण एवं परिणामों की व्याख्या कीजिए।
21. Why is Public Interest Litigation (PIL) called a novel Idea? How far has PIL saved the purpose for which it was devised? 2+3=5  
जनहित याचिका को एक अनोखा विचार क्यों कहा गया है? जनहित याचिका ने किस सीमा तक अपने वांछित उद्देश्यों की पूर्ति की है?



22. Examine the tribal community life style of Bishnoi with respect to the environment.

5

पर्यावरण के संदर्भ में बिश्नोई जनजाति की जीवन शैली का परीक्षण कीजिए।

23. Who presides over Lok Sabha and Rajya Sabha respectively? Mention any three function which are common to them.

2+3=5

लोकसभा तथा राज्यसभा की अध्यक्षता क्रमशः कौन-कौन करता है? दोनों के किन्हीं तीन एक जैसे कार्यों का उल्लेख कीजिए।

24. (i) Two features (A) and (B) are marked on the given outline political map of the world. Identify these features with the help of information given below and write their correct names on the lines marked on the map.

(A) An important iron-ore producing country

(B) An important country of Africa, manufacturing cotton textile.

(ii) On the same outline political map of world, locate and label with appropriate symbol :

(C) Australia - An important country where bauxite is found.

2+1=3

(i) संसार के राजनीतिक रेखा मानचित्र पर दो लक्षण (A) तथा (B) दर्शाए गए हैं। नीचे दी गई सूचना के आधार पर उन्हें पहचानिए तथा उनके सही नाम दी गई रेखाओं पर लिखिए -

(A) एक महत्वपूर्ण लौह-अयस्क उत्पादक देश।

(B) अफ्रीका का एक महत्वपूर्ण सूती वस्त्र उत्पादक देश।

(ii) दिए गए संसार के उसी राजनैतिक मानचित्र पर निम्नलिखित को उपयुक्त चिह्नों द्वारा दिखाइए तथा उसका नाम लिखिए :

(C) आस्ट्रेलिया - एक महत्वपूर्ण बॉक्साइट उत्पादक देश

For visually impaired students only in lieu of Q. No. 24

प्र.सं. 24 के स्थान पर केवल दृष्टि बाधित विद्यार्थियों के लिए वैकल्पिक प्रश्न

24.1. Name an important iron-ore producing country of South America.

24.2. Which country of Africa produces cotton textile.

24.3. Name an important bauxite producing country of South America. 3×1=3

24.1. दक्षिण अमेरिका का एक महत्वपूर्ण लौह-अयस्क उत्पादक देश।

24.2. अफ्रीका का एक महत्वपूर्ण कपड़ा उत्पादक देश।

24.3. दक्षिण अमेरिका का एक महत्वपूर्ण बाक्साइट उत्पादक देश।

25. (i) Two features (A) and (B) are marked in the outline political map of India. Identify these features with the help of information given below and write their correct names on the lines marked on the map :-

(A) The place where Gandhiji broke the salt law.

(B) The state to which Shri Narayan Guru belonged.

(ii) On the same political map of India, locate and label the following :

(C) The place where Jallianwala Bagh Massacre took place. 2+1=3

(i) दिए गए भारत के राजनीतिक रेखा मानचित्र में दो लक्षण (A) तथा (B) दर्शाए गए हैं। नीचे दी गई जानकारी के आधार पर इन लक्षणों की पहचान कीजिए और उनके सही नाम मानचित्र पर खींची गई रेखाओं पर लिखिए।

(A) वह स्थान जहाँ पर गांधी जी ने नमक कानून तोड़ा था।

(B) वह राज्य जिस से श्री नारायण गुरु संबंध रखते थे।

(ii) दिए गए उसी मानचित्र पर निम्नलिखित लक्षण को अंकित कीजिए तथा उसका नाम लिखिए -

(C) वह स्थान जहाँ जलियावाला बाग नरसंहार हुआ।

Alternative question for visually impaired students only in lieu of Q. No. 25

प्र.सं. 25 के स्थान पर केवल दृष्टि बाधित विद्यार्थियों के लिए वैकल्पिक प्रश्न

25.1. The place where Gandhiji broke the Salt law.

25.2. The state to which Periyar E.V. Ramasamy belonged.

25.3. Name the social reformer who started Shuddhi movement.

3×1=3

25.1. वह स्थान जहाँ पर गांधी जी ने नमक कानून तोड़ा था।

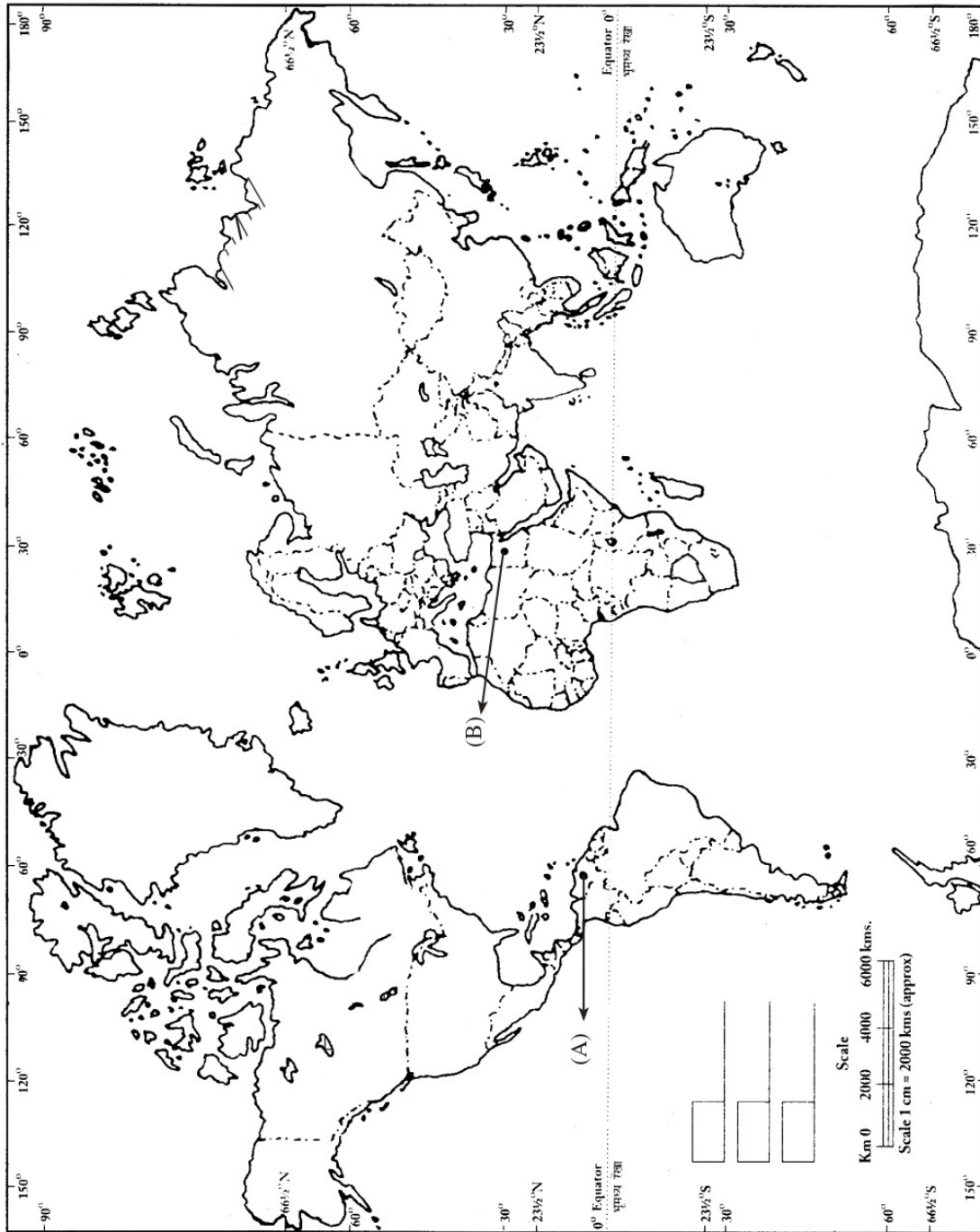
25.2. वह राज्य जिस से पेरियार ई.वी. रामासामी संबंध रखते थे।

25.3. उस समाज सुधारक का नाम लिखिए जिन्होंने शुद्धि आंदोलन शुरू किया था।

Roll No. (अनुक्रमांक) \_\_\_\_\_

World-Political (संसार-राजनीतिक)

Map for Question No. 24 (प्र.सं. 24 के लिए मानचित्र)



Roll No. (अनुक्रमांक) \_\_\_\_\_

India-Political ( भारत-राजनीतिक )

Map for Question No. 25 (प्र.सं. 25 के लिए मानचित्र)



## Paper -6

Maximum Marks : 100

1. (a) Name any two minerals derived from the sedimentary rocks.  $\frac{1}{2}+\frac{1}{2}=1$   
किन्हीं दो खनिजों के नाम लिखिए जो अवसादी चट्टानों से प्राप्त होते हैं।
- (b) Define parent rock. 1  
मूल चट्टान की परिभाषा लिखिए।
- (c) Which type of coal is considered to be of the lowest quality? 1  
कोयले की कौन सी प्रकार न्यूनतम गुणवत्ता वाली मानी जाती है?
- (d) Identify the leading bauxite producer state of India out of Gujrat, Odisha and Maharashtra. 1  
गुजरात, उड़ीसा तथा महाराष्ट्र में से भारत के प्रमुख बॉक्साइट-उत्पादक राज्य की पहचान कीजिए।
- (e) Why was the Education Commission of 1882 formed? Give only one reason. 1  
1882 के शिक्षा आयोग की स्थापना क्यों की गई थी? कोई एक कारण लिखिए।
- (f) Name the first Prime Minister and the first Deputy Prime Minister of Independent India.  $\frac{1}{2}+\frac{1}{2}=1$   
स्वतंत्र भारत के प्रथम प्रधानमंत्री तथा प्रथम उप-प्रधानमंत्री का नाम लिखिए।
- (g) What was the main aim of making five year plans in India? 1  
भारत में पंचवर्षीय योजनाओं को बनाने का मुख्य उद्देश्य क्या था?
- (h) State any two functions of the Union Executive.  $\frac{1}{2}+\frac{1}{2}=1$   
संघ कार्यपालिका के कोई दो कार्य लिखिए।
- (i) How can the President of India be removed from his / her post? 1  
भारत के राष्ट्रपति को उसके पद से किस प्रकार हटाया जा सकता है?

- (j) Highlight the significance of the supreme court of India as the Guardian of our Constitution. 1

हमारे संविधान के संरक्षक के रूप में भारत के सर्वोच्च न्यायलय के महत्व को उजागर कीजिए।

2. Compare the geographical conditions required for the production of maize and millets with respect to soil type, temperature and rainfall. 3×1=3

मक्का तथा बाजरे के उत्पादन के लिए आवश्यक भौगोलिक परिस्थितियों की तुलना मृदा-प्रकार, तापमान तथा वर्षा के संदर्भ में कीजिए।

3. Analyse and three ecological problems caused by large dams. 3×1=3

बड़े बाँधों के कारण उत्पन्न किन्हीं तीन पारिस्थितिक समस्याओं का विश्लेषण कीजिए।

4. "Conservation of energy resources is the need of the hour" Do you agree with the statement? Justify your answer with any three suitable arguments. 3×1=3

“ऊर्जा संसाधनों का संरक्षण समय की आवश्यकता है।” क्या आप इस कथन से सहमत हैं? किन्हीं तीन उपयुक्त तर्कों द्वारा अपने उत्तर को न्यायसंगत ठहराइए।

5. Explain any three distinctions between metallic and non-metallic minerals. 3×1=3

धातु तथा गैर-धातु खनिजों में कोई तीन अंतर स्पष्ट कीजिए।

6. Explain any three positive impacts of the British system of Education in India. 3×1=3

भारत में ब्रिटिश शिक्षा-प्रणाली के किन्हीं तीन सकारात्मक प्रभावों की व्याख्या कीजिए।

7. Evaluate the role of Swami Dayanand Saraswati as a social reformer. 3

स्वामी दयानंद सरस्वती की, एक समाज सुधारक के रूप में, भूमिका का मूल्यांकन कीजिए।

8. Name the three (also called trio) freedom fighters who were known as radicals. How were they different from the moderates? 1½+1½=3  
गरम दल के तिकड़ी कहे जाने वाले तीन स्वाधीनता सैनानियों के नाम लिखिए। वे नरम दल वालों से किस प्रकार भिन्न थे।
9. In which three ways were the Britishers benefitted by winning the Battle of Plassey? 3×1=3  
प्लासी का युद्ध जीतने से अंग्रेज किन तीन प्रकार से लाभान्वित हुए?
10. Describe any three real powers of the Prime Minister of India as head of the government. 3×1=3  
सरकार के प्रमुख रूप में, भारत के प्रधानमंत्री की किन्हीं तीन वास्तविक शक्तियों का वर्णन कीजिए।
11. Examine the emergency powers of the President of India. 3  
भारत के राष्ट्रपति की आपातकालीन शक्तियों का परीक्षण कीजिए।
12. Who elects the President of India and how? 1+2=3  
भारत के राष्ट्रपति का निर्वाचन कौन करता है और कैसे?
13. Which three features make Public Interest Litigation a novel concept? 3×1=3  
कौन-सी तीन विशेषताएं जनहित याचिका को एक आदर्श अवधारणा बनाती हैं?
14. Analyse any three provisions of Prevention of Atrocities Act, 1989. 3×1=3  
अत्याचारों की रोकथाम अधिनियम, 1989 के किन्हीं तीन प्रावधानों का विश्लेषण कीजिए।
15. Classify and explain the industries on the basis of their size and nature of finished products. 3+2=5  
उद्योगों को उनके आकार तथा तैयार उत्पादों की प्रकृति के आधार पर वर्गीकृत करके व्याख्या कीजिए।



16. Describe any three physical and two economic factors that affect the population distribution of a place. 3+2=5  
किसी स्थान की जनसंख्या वितरण को प्रभावित करने वाले किन्हीं तीन भौतिक और दो आर्थिक कारकों का वर्णन कीजिए।
17. Explain any five factors responsible for soil formation. 5×1=5  
मृदा निर्माण के लिए उत्तरदायी किन्हीं पाँच कारकों की व्याख्या कीजिए।
18. Describe any five salient features of Government of India Act, 1935. 5×1=5  
भारत सरकार अधिनियम, 1935 की किन्हीं पाँच प्रमुख विशेषताओं का वर्णन कीजिए।
19. Highlight the important features of 'India's Vision 2020'. 5  
'भारत का दर्शन 2020' की प्रमुख विशेषताओं को उजागर कीजिए।
20. Briefly describe the events and Consequences of the Second Carnatic War. 3+2=5  
दूसरे कर्नाटक युद्ध की घटनाओं तथा परिणामों का संक्षेप में वर्णन कीजिए।
21. When was the first Lok Adalat held? Assess any four advantages of the Lok Adalats. 1+4=5  
प्रथम लोक अदालत की बैठक कब हुई? लोक अदालत के किन्हीं चार लाभों का आकलन कीजिए।
22. How do Fundamental Rights safeguard the interest of the marginalized sections of the society in India? 5×1=5  
मौलिक अधिकार भारत में हाशिये पर आने वाले समाज के विभिन्न वर्गों के हितों का संरक्षण किस प्रकार करते हैं?
23. Evaluate the legislative and financial powers of the Parliament of India. 2½+2½=5  
भारतीय संसद की विधायी तथा वित्तीय शक्तियों का मूल्यांकन कीजिए।

24. (i) Two features (A) and (B) are marked on the given outline political map of the world. Identify these features with the help of information given below and write their correct names on the lines marked on the map.

(A) An important iron producing country of South America.

(B) A cotton textile manufacturing country of Africa.

(ii) On the same outline political map of the world, locate and label with appropriate symbol :

(C) Brazil - An important country where bauxite is found.

2+1=3

(i) संसार के राजनीतिक रेखा मानचित्र पर दो लक्षण (A) तथा (B) दर्शाए गए हैं। नीचे दी गई सूचना के आधार पर उन्हें पहचानिए तथा उनके सही नाम दी गई रेखाओं पर लिखिए -

(A) दक्षिण अमरीका का एक महत्वपूर्ण लौह उत्पादक देश।

(B) अफ्रीका का एक सूती वस्त्र उत्पादक देश

(ii) दिए गए संसार के उसी राजनैतिक मानचित्र पर निम्नलिखित को उपयुक्त चिह्नों द्वारा दिखाइए तथा उसका नाम लिखिए :

(C) ब्राजील - एक महत्वपूर्ण बॉक्साइट उत्पादक देश

**For visually impaired students only in lieu of Q. No. 24**

**प्र.सं. 24 के स्थान पर केवल दृष्टि बाधित विद्यार्थियों के लिए वैकल्पिक प्रश्न**

24.1. Name an important iron producing country of South America.

24.2. Which is an important cotton-textile manufacturing country of Europe?

24.3. Mention an important coal producing country of North America.

3×1=3

24.1. दक्षिण अमेरिका के एक महत्वपूर्ण लौह-उत्पादक देश का नाम लिखिए।

24.2. यूरोप महाद्वीप का एक प्रमुख सूती-वस्त्र उत्पादक देश कौन सा है?

24.3. उत्तरी अमेरिका के एक महत्वपूर्ण कोयला उत्पादक देश का उल्लेख कीजिए।

25. (i) Two features (A) and (B) are marked in the outline political map of India. Identify these features with the help of information given below and write their correct names on the lines marked on the map :-

(A) The state to which Sh. Narayan Guru belonged.

(B) The city where Quit India Movement, 1942 started.

(ii) On the same political map of India, locate and label the following :

(C) The place where division of congress took place in 1907.

2+1=3

(i) दिए गए भारत के राजनीतिक रेखा मानचित्र में दो लक्षण (A) तथा (B) चिन्हित किए गए हैं। नीचे दी गई जानकारी के आधार पर इन लक्षणों की पहचान कीजिए और उनके सही नाम मानचित्र पर खींची गई रेखाओं पर लिखिए।

(A) श्री नारायण गुरु से सम्बन्धित राज्य

(B) वह स्थान जहाँ भारत छोड़ो आन्दोलन, 1942 में शुरू हुआ

(ii) उसी मानचित्र में निम्नलिखित को दर्शाइए और नाम लिखिए -

(C) वह स्थान जहाँ 1907 में कांग्रेस का विभाजन हुआ।

**Alternative question for visually impaired students only in lieu of Q. No. 25**

**प्र.सं. 25 के स्थान पर केवल दृष्टि बाधित विद्यार्थियों के लिए वैकल्पिक प्रश्न**

25.1. Who was Periyar E.V. Ramasamy?

25.2. Which commission was sent to India to review the Government of India Act, 1919?

25.3. Name the Congress session where historic resolution of Purna Swaraj was passed.

3×1=3

25.1. पेरियार ई.वी. रामासामी कौन थे?

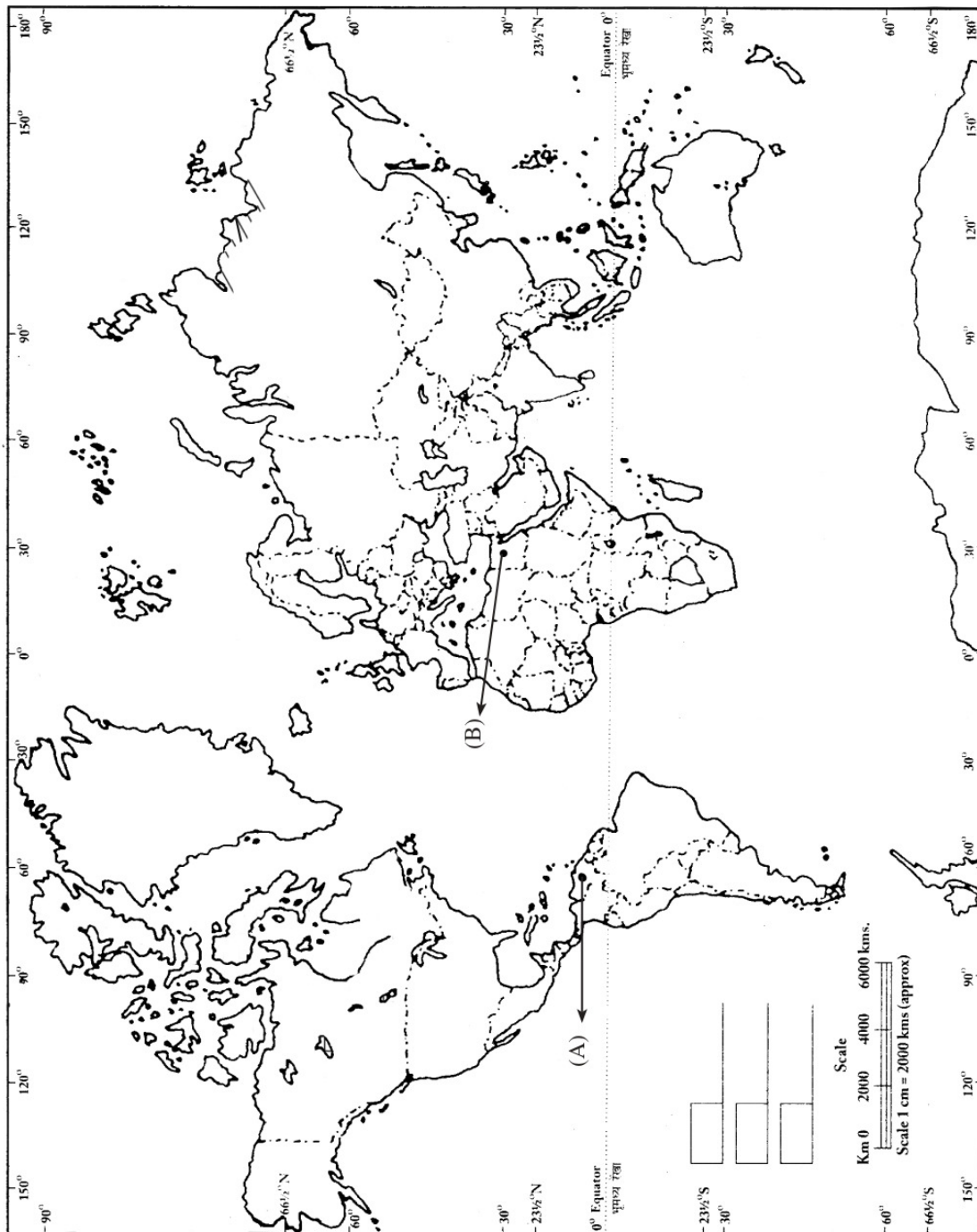
25.2. भारत सरकार की अधिनियम, 1919 की समीक्षा करने के लिए कौन सा आयोग भेजा गया था?

25.3. किस कांग्रेस अधिवेशन में पूर्ण स्वराज का प्रस्ताव पारित किया गया था?

Roll No. (अनुक्रमांक) \_\_\_\_\_

World-Political (संसार-राजनीतिक)

Map for Question No. 24 (प्र.सं. 24 के लिए मानचित्र)



Roll No. (अनुक्रमांक) \_\_\_\_\_

India-Political (भारत-राजनीतिक)

Map for Question No. 25 (प्र.सं. 25 के लिए मानचित्र)



1. Mineral fuels are found in which one of the following rocks? 1
- (a) Metamorphic rocks (b) Sedimentary rocks  
(c) Igneous rocks (d) Sandstone
- खनिज तेल, निम्नलिखित शैलों में से किस में पाये जाते हैं?
- (a) कायान्तरित शैल (b) अवसादी शैल  
(c) आग्नेय शैल (d) रेतीली शैल
2. Identify the artificial fibre from the following. 1
- (a) Rayon (b) Cotton  
(c) Jute (d) Silk
- निम्नलिखित में से कृत्रिम रेशे को पहचानिए।
- (a) रेयॉन (b) कपास  
(c) जूट (d) रेशम
3. Where is the Silicon Valley of India located? 1
- (a) NOIDA (b) Bengluru  
(c) Ahmedabad (d) Pune
- भारत की 'सिलिकॉन वैली' कहाँ अवस्थित है?
- (a) नोएडा (b) बेंगलुरु  
(c) अहमदाबाद (d) पुणे
4. Which one of the following regions has high density of population. 1
- (a) Monsoon Region (b) Arid Region  
(c) Polar Region (d) Temperate Region
- निम्नलिखित में से किस क्षेत्र का जनसंख्या घनत्व अधिक है?
- (a) मानसून क्षेत्र (b) बंजर क्षेत्र  
(c) ध्रुवीय क्षेत्र (d) शीतोष्ण क्षेत्र
5. The summer capital of British India was 1
- (a) Dehradun (b) Shimla  
(c) Manali (d) Darjeeling

ब्रिटिश भारत की गर्मियों में राजधानी कहां होती थी?

- (a) देहरादून (b) शिमला  
(c) मनाली (d) दार्जिलिंग

6. The Sharda Act of 1929 was applicable to 1

- (a) All people living in India (b) All Hindus living in India.  
(c) All Muslims living in India (d) All Anglo-Indians living in India

1929 का शारदा एक्ट लागू होता था -

- (a) भारत में रहने वाले सभी लोगों पर (b) भारत में रहने वाले सभी हिन्दुओं पर  
(c) भारत में रहने वाले सभी मुसलमानों पर (d) भारत में रहने वाले सभी एंग्लो-इन्डियन्स पर

7. From where was the epic Dandi March started by Gandhiji? 1

- (a) Dandi (b) Sabarmati  
(c) Ahmedabad (d) Kheda

ऐतिहासिक डांडी मार्च कहां से शुरू हुई थी?

- (a) डांडी (b) साबरमती  
(c) अहमदाबाद (d) खेड़ा

8. Which one of the following is the basic qualification required to be appointed as a minister in the Union Council of Ministers? 1

- (a) S/he should be member of Lok Sabha  
(b) S/he should be member of Rajya Sabha  
(c) S/he should be member of either house of the Parliament.  
(d) S/he should be member of any of the state legislature.

केन्द्रीय मन्त्रिपरिषद में मन्त्री नियुक्त होने के लिए निम्नलिखित में से कौन सी योग्यता आधारभूत है?

- (a) उसे लोकसभा का सदस्य होना चाहिए  
(b) उसे राज्यसभा का सदस्य होना चाहिए  
(c) उसे संसद के किसी एक सदन का सदस्य होना चाहिए।  
(d) उसे किसी राज्य की विधानसभा का सदस्य होना चाहिए।

9. A "Tax evasion" case will be heard in - 1

- (a) A Lok Adalat (b) A Revenue Court  
(c) A Civil Court (d) A Criminal Court

‘टैक्स चोरी’ का मुकदमा किस अदालत में सुना जाता है?

- (a) लोक अदालत (b) राजस्व अदालत  
(c) सिविल अदालत (d) आपराधिक अदालत

10. How many tenants were formulated by the mentor of Bishnois? 1

- (a) Twenty five (b) Twenty Seven  
(c) Twenty Nine (d) Thirty one

बिश्नोइयों के गुरुओं द्वारा कितने सिद्धान्त बनाए गए थे?

- (a) 25 (b) 27  
(c) 29 (d) 31

11. Define agriculture why agricultural development has become important in recent times. 1+2=3

‘कृषि’ को परिभाषित कीजिए। पिछले वर्षों में कृषि का विकास महत्वपूर्ण क्यों हो गया है?

12. Name two cereals crops of India. State the geographical conditions required for their growth under the following heads

- (a) Soil (b) Rainfall 1+1+1=3

भारत की दो मुख्य खाद्य फसलों के नाम लिखिए। निम्नलिखित शीर्षकों के अन्तर्गत उनकी उपज के लिए आवश्यक शर्तों को लिखिए -

- (a) मृदा (b) वर्षा

13. Which place is called 'Manchester of India' and why? Explain. 1+2=3

किस स्थान को भारत का मानचेस्टर कहा जाता है और क्यों? स्पष्ट कीजिए।

14. What is meant by industrial region? Mention two factors responsible for the development of an Industrial Region. 1+2=3

औद्योगिक क्षेत्र से क्या अभिप्राय है? औद्योगिक क्षेत्र के विकास के लिए उत्तरदायी किन्हीं दो कारकों का उल्लेख कीजिए।

15. "De-urbanisation was a significant development during the British rule in India". Analyse the statement. 3

“भारत में ब्रिटिश शासन के दौरान ‘विशहरीकरण’ एक महत्वपूर्ण घटना थी” कथन का विश्लेषण कीजिए।

16. Write any three differences between the moderates and the radicals. 3

नरमपंथियों और गरमपंथियों के बीच कोई तीन अन्तर लिखिए।



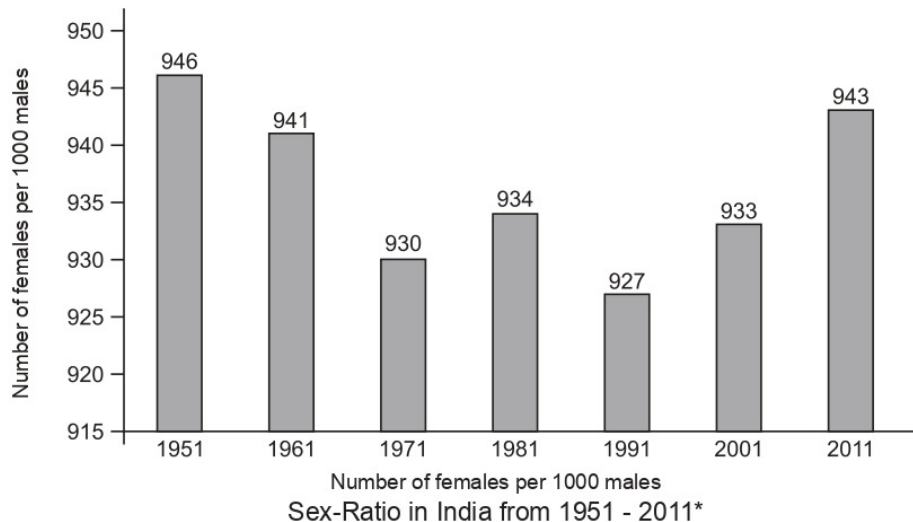
17. Explain any three reasons for "Indian leaders to opt for a democratic set up in free India. 3  
 भारतीय नेताओं द्वारा स्वतंत्र भारत में लोकतान्त्रिक व्यवस्था स्थापित करने को चुनने के कोई तीन कारण स्पष्ट कीजिए।
18. Explain the emergency powers of the President of India. 3  
 भारत के राष्ट्रपति की आपातकालीन शक्तियों की व्याख्या कीजिए।
19. Write any three benefits of Lok Adalats for the people of India. 3  
 भारत के लोगों के लिए लोक अदालतों से होने वाले कोई तीन लाभ लिखिए।
20. Explain the two political safeguards made for the Anglo-Indians in India.  $1\frac{1}{2}+1\frac{1}{2}=3$   
 भारत में एंग्लो इन्डियन्स के लिए किए गए दो राजनीतिक सुरक्षा उपायों की व्याख्या कीजिए।
21. You are on a visit to Sivakashi in Tamil Nadu. You notice many children below the age of ten working in cracker factories. Under which right you can help them to sue the employer? What should be done by the government to improve their condition?  $1+2=3$   
 मान लीजिए आप तमिलनाडु में शिवाकासी की यात्रा पर हैं। आप वहां दस वर्ष से कम आयु के बच्चों को पटाखा फैक्ट्रियों में काम करते हुए देखते हैं। आप किस अधिकार के अन्तर्गत फैक्ट्री के मालिक के विरुद्ध मुकद्मा करने में उनकी सहायता कर सकते हैं? सरकार को उनकी हालत सुधारने के लिए क्या करना चाहिए?
22. Write any two needs and three methods of conservation of minerals.  $2+3=5$   
 खनिजों की किन्हीं दो आवश्यकताओं और उनके संरक्षण के किन्हीं तीन तरीकों को लिखिए।
23. Which four factors affect the distribution of population? Explain why do most of the people of the world prefer to live in plains? 5  
 जनसंख्या के वितरण को कौन से चार कारक प्रभावित करते हैं? स्पष्ट कीजिए कि दुनिया के अधिकांश लोग मैदानी क्षेत्रों में रहने को प्राथमिकता क्यों देते हैं?

OR

- Study the diagram given below and answer the following questions :-  $1+1+2$
- (a) Define the term sex-ratio.  $+1=5$
- (b) Identify and write the year with lowest sex-ratio in India.
- (c) Give two reasons for the decline of sex-ratio in India.
- (d) Which year shows improvement in sex-ratio in India. State the reason.

नीचे दिए चित्र का अध्ययन कीजिए और नीचे लिखे प्रश्नों के उत्तर दीजिए।

- लिंगानुपात की परिभाषा लिखिए।
- भारत में सबसे लिंगानुपात वाले वर्ष को पहचानिए और लिखिए।
- भारत में लिंग अनुपात घटने के कोई दो कारण लिखिए।
- भारत में किस वर्ष लिंग अनुपात में सुधार दिखायी दिया? कारण लिखिए।



- Explain the impact of reform movements on India. 5  
भारत पर सुधार आन्दोलनों के प्रभाव की व्याख्या कीजिए।
- Describe and five ways through which Indians opposed the British during the second mass movement. 5  
दूसरे जन आन्दोलन के दौरान भारतीयों द्वारा अंग्रेजों का विरोध करने के किन्हीं पांच तरीकों का वर्णन कीजिए।
- Who was the chief architect of India's foreign policy? Mention any four features of India's foreign policy. 1+4=5  
भारत की विदेश नीति का मुख्य शिल्पकार कौन था? भारत की विदेश नीति की किन्हीं चार विशेषताओं का उल्लेख कीजिए।
- Analyse the importance of the Prime Minister in the Indian Parliamentary system. 5  
भारतीय संसदीय प्रणाली में भारत के प्रधानमन्त्री के महत्व का विश्लेषण कीजिए।
- Suppose you are a resident of a polluted city. What can you do to draw the attention of the court to the problem of pollution. Suggest any three measures to check pollution in your city. 1+1+3=5

मान लीजिए कि आप एक प्रदूषित नगर के वासी हैं। आप प्रदूषण की समस्या के प्रति अदालत का ध्यान आकर्षित करने के लिए क्या कर सकते हैं? अपने शहर में प्रदूषण रोकने के कोई तीन उपाय सुझाईये।

29. When was mandal commission set up? Mention any four facts related to Mandal Commission.

1+4=5

मण्डल आयोग का गठन कब हुआ था? इस आयोग से सम्बन्धित किन्हीं चार तथ्यों का उल्लेख कीजिए।

**OR ( अथवा )**

State any five facts about the Musahar Community.

मुसाहार समुदाय के बारे में कोई पाँच तथ्य लिखिए।

30. (i) Two features (A) and (B) are marked on the given outline political map of India. Identity these features with the help of information given below and write their correct names on the lines marked on the map.

(A) The state to which Jyotiba Phule belonged.

(B) The city where Jallianwala Bagh massacre took place.

- (ii) On the same political map of India locate and label the following

(C) The place where Moderates and extremist united.

3

- (i) दिए गए भारत के राजनीतिक रेखा मानचित्र में दो लक्षण 'A' तथा 'B' चिन्हित किए गए हैं। नीचे दी गई जानकारी के आधार पर इन लक्षणों की पहचान कीजिए और उनके सही नाम मानचित्र में खींची गई रेखाओं पर लिखिए।

(A) ज्योतिबा फुले से सम्बन्धित राज्य

(B) जालियांवाला बाग की घटना से जुड़ा नगर

- (ii) उसी मानचित्र में निम्नलिखित को दर्शाइए और नाम लिखिए।

(C) वह स्थान जहाँ नरम पंथी और गरम पंथियों में एकता हुई थी।

**For visually impaired students only in lieu of Q. No. 30**

**प्र.सं. 30 के स्थान पर केवल दृष्टि बाधित विद्यार्थियों के लिए वैकल्पिक प्रश्न**

(a) Name the place where home rules league was established.

(b) Name the place where congress split in 1907.

(c) Name the place from where Veersalingam Kandukuri started the reform movement.

(a) उस स्थान का नाम लिखिए जहाँ होम रूल लीग की स्थापना हुई थी।

- (b) उस स्थान का नाम लिखिए जहां 1907 में कांग्रेस पर विभाजन हुआ था।  
 (c) उस स्थान का नाम लिखिए जहां से वीरसालिंगम् कान्दुकुरी ने सुधार आन्दोलन शुरू किया था?

31. (i) Two features (A) and (B) are marked on the given outline political map of the world. Identify these features with the help of following information given below and write their correct names on the lines marked on the map :-

(A) An important coal producing country of Europe.

(B) An Iron and Steel manufacturing country of Africa.

(ii) On the same outline Political map of the world, locate and label the following with appropriate symbols.

(C) Canada - An Important Cotton Textile Centres.

(D) Venezuela - An Important iron producing country of south America. 1×4=4

(i) दिए गए विश्व के राजनीतिक रेखा मानचित्र में दो लक्षण 'A' और 'B' चिह्नित किए गए हैं। नीचे दी गई जानकारी के आधार पर इन लक्षणों को पहचानिए और मानचित्र में खींची रेखाओं पर उनके सही नाम लिखिए।

(A) यूरोप का महत्वपूर्ण कोयला उत्पादक देश

(B) अफ्रीका का लौह और इस्पात विनिर्माता देश

(ii) उसी मानचित्र पर निम्नलिखित को उपयुक्त संकेतों से दर्शाइए और उनके सही नाम लिखिए।

(C) कनाडा - एक महत्वपूर्ण सूती वस्त्र केन्द्र

(D) वेन्जुएला - दक्षिणी अमेरिका का महत्वपूर्ण लौह उत्पादक देश

**Alternative question for visually impaired students only in lieu of Q. No. 31**

**प्र.सं. 31 के स्थान पर केवल दृष्टि बाधित विद्यार्थियों के लिए वैकल्पिक प्रश्न**

31.1. Mention an important iron producing country of North America.

31.2. Name the cotton textile manufacturing country of Asia.

31.3. Which is an important iron and steel manufacturing country of Asia.

31.4. Name the bauxite producing country of South America. 1×4=4

31.1. उत्तर अमेरिका के एक महत्वपूर्ण लौह उत्पादक देश का उल्लेख कीजिए।

31.2. एशिया के सूती वस्त्र विनिर्माता देश का नाम लिखिए।

31.3. एशिया की महत्वपूर्ण लौह और इस्पात विनिर्माता देश कौन सा है?

31.4. दक्षिण अमेरिका के बाक्साइट उत्पादक देश का नाम लिखिए।

Roll No. (अनुक्रमांक) \_\_\_\_\_

India-Political (भारत-राजनीतिक)

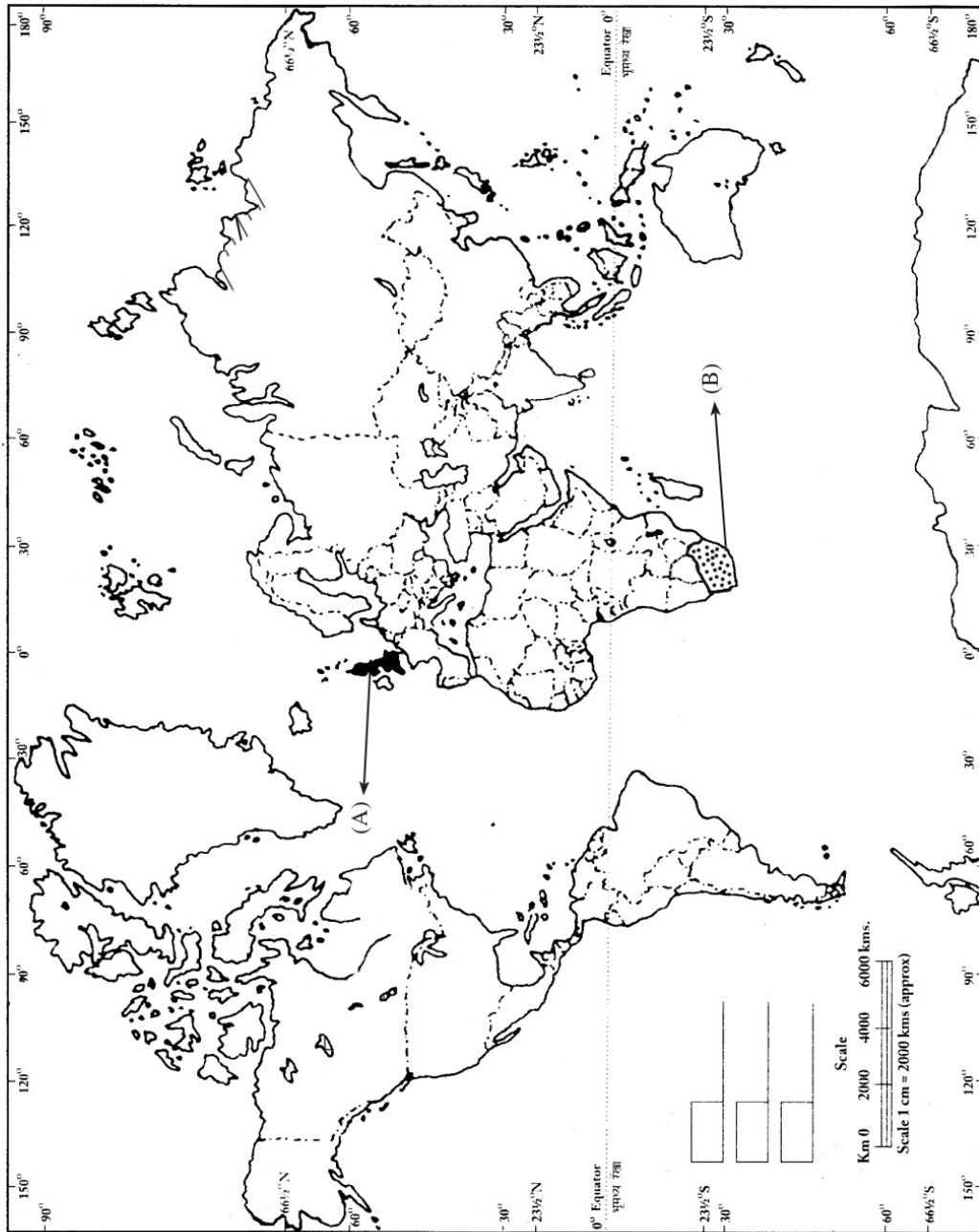
Map for Question No. 30 (प्र.सं. 30 के लिए मानचित्र)



Roll No. (अनुक्रमांक) \_\_\_\_\_

World-Political (संसार-राजनीतिक)

Map for Question No. 31 (प्र.सं. 31 के लिए मानचित्र)



## Paper -8

Maximum Marks : 100

1. (a) Name the two metals that form brass. 1/2+1/2=1  
ऐसी दो धातुओं के नाम लिखिए जिनसे पीतल बनाया जाता है?
- (b) State any two human factors that determine the utilization of land in a country. 1/2+1/2=1  
देश में भूमि के उपयोग का निर्धारण करने वाले कोई दो मानवीय कारक लिखिए।
- (c) Which two sources of energy are obtained from sedimentary rocks? 1/2+1/2=1  
तलछटी चट्टानों से ऊर्जा के कौन-से दो स्रोत प्राप्त होते हैं?
- (d) Which two qualities of Anthracite coal make it the best quality of coal? 1/2+1/2=1  
किन दो गुणों के कारण एंथ्रासाइट कोयला सर्वाधिक गुणवत्ता वाला कोयला कहलाता है?
- (e) Write one major reason that forced the British to relocate their capital from Calcutta to New Delhi in 1911. 1  
अंग्रेजों द्वारा 1911 में कलकत्ता के स्थान पर नई दिल्ली को अपनी राजधानी बनाने का एक प्रमुख कारण लिखिए।
- (f) Who was the second Governor - General of Independent India? 1  
स्वतंत्र भारत का दूसरा गवर्नर जनरल कौन था?
- (g) Mention any two features of India's foreign policy. 1/2+1/2=1  
भारत की विदेश नीति की किन्हीं दो विशेषताओं का उल्लेख कीजिए।
- (h) The state of Uttarakhand suffered a massive earthquake and required money for relief and rehabilitation. Name the fund from which the President of India could sanction money to the Central government for carrying out rescue work in Uttarakhand. 1  
उत्तराखंड राज्य को बड़े पैमाने पर भूकंप से होने वाली क्षति का सामना करना पड़ा। राहत के लिए उत्तराखंड को आवश्यक धनराशि तथा पुनर्वास की आवश्यकता थी। उस सहायता कोष का नाम बताइए जिसमें से भारत के राष्ट्रपति द्वारा केंद्र सरकार को उत्तराखंड में बचाव कार्य हेतु धनराशि की मंजूरी दी जा सकती है।
- (i) In case of internal armed rebellion, which type of emergency can be declared by the President of India? 1

आंतरिक सशस्त्र विद्रोह के दौरान, भारत के राष्ट्रपति द्वारा किस प्रकार की आपातकालीन स्थिति घोषित की जा सकती है?

- (j) State any two examples of a civil case. 1/2+1/2=1  
दीवानी मुकद्दमें के कोई दो उदाहरण लिखिए।
2. Differentiate between extensive agriculture and intensive agriculture under the following headings - (i) yield (ii) market (iii) mechanization. 6×1/2=3  
निम्नलिखित आधार पर व्यापक कृषि एवं गहन कृषि के मध्य अंतर स्पष्ट कीजिए -  
(i) पैदावार (ii) बाज़ार (iii) मशीनीकरण
3. 'The lithosphere consists of loose surface material called soil'. Mention any two main components the soil consists of. 1 1/2+1 1/2=3  
स्थल मंडल (लिथोस्फीयर) में ढीली स्तह सामग्री शामिल होती है, जिसे मृदा कहा जाता है। मृदा के किन्हीं दो प्रमुख घटकों का उल्लेख कीजिए।
4. Explain the process of generating hydroelectricity. 3  
पनबिजली उत्पन्न करने की प्रक्रिया की व्याख्या कीजिए।
5. Analyze any three reasons due to which the world is facing energy crisis today. 3×1=3  
किन्हीं तीन कारणों का उल्लेख कीजिए जिसके परिणामस्वरूप विश्व को वर्तमान समय में ऊर्जा संकट का सामना करना पड़ रहा है।
6. Describe any three major contributions of Shri Narayana Guru to reform the Indian Society. 3×1=3  
भारतीय समाज को सुधारने के लिए श्री नारायण गुरु द्वारा दिए गए तीन प्रमुख योगदानों का वर्णन कीजिए।
7. "The nineteenth and twentieth century marked the beginning of urbanization of Delhi under the British". Justify the statement with any three relevant arguments. 3×1=3  
“अंग्रेजी साम्राज्य के अंतर्गत उन्नीसवीं तथा बीसवीं सदी में दिल्ली के शहरीकरण की शुरुआत हुई।” प्रदत्त कथन को किन्हीं तीन उचित तर्कों द्वारा न्यायसंगत ठहराइए।
8. "The British sowed the seeds of communal hatred and divided the two main religious communities in India". Do you agree with this statement? Write two relevant incidents to support your answer. 1+2=3



“अंग्रेजों ने सांप्रदायिक नफरत के बीज बोए और भारत के दो मुख्य धार्मिक समुदायों को विभाजित कर दिया।” क्या आप इस कथन से सहमत हैं? अपने उत्तर के समर्थन में कोई दो उपयुक्त तर्क दीजिए।

9. Analyse the Dual System of Government in Bengal to prove that the system benefitted the British but adversely affected the people of Bengal. 3

बंगाल में दोहरी शासन प्रणाली के विश्लेषण द्वारा यह सिद्ध कीजिए कि इस प्रणाली से अंग्रेजों को तो लाभ पहुंचा परन्तु बंगाल के लोगों पर इसका प्रतिकूल प्रभाव पड़ा।

10. Explain any three powers of the Prime Minister of India as the Head of the Government. 3×1=3

सरकार के प्रमुख के रूप में भारत के प्रधानमंत्री की किन्हीं तीन शक्तियों की व्याख्या कीजिए।

11. Explain the procedure of making a law in the Indian Parliament. 3

भारतीय संसद में कानून बनाने की प्रक्रिया की व्याख्या कीजिए।

12. Who elects the Vice President of India and how? Mention any two main functions that she / he performs. 1+2=3

भारत के उपराष्ट्रपति का चुनाव कौन करता है तथा कैसे? उसके किन्हीं दो मुख्य कार्यों का उल्लेख कीजिए।

13. Highlight the role of the Supreme Court of India as the guardian of the Indian constitution. 3

भारतीय संविधान के संरक्षक के रूप में भारत के सर्वोच्च न्यायालय की भूमिका को उजागर कीजिए।

14. What is Prevention of Atrocities Act 1989? List any four offences punishable under this Act. 1+2=3

नृशंसता (अत्याचार) की रोकथाम अधिनियम, 1989 क्या है? इस अधिनियम के अंतर्गत आने वाले किन्हीं चार दंडनीय अपराधों को सूचीबद्ध कीजिए।

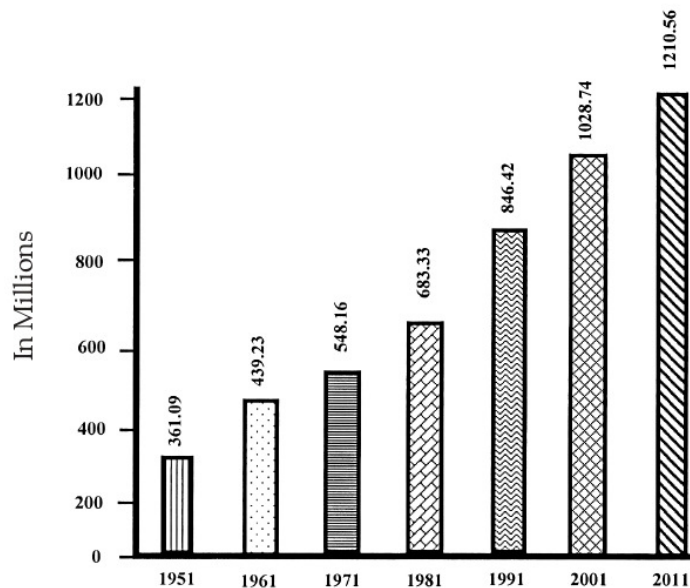
15. Examine any five factors that have contributed to the growth of Bengaluru, as an IT city of India. 5×1=5

भारत के एक सूचना प्रौद्योगिकी (आई टी) नगर के रूप में, बेंगलुरु के विकास में योगदान देने वाले किन्हीं पांच कारकों का परीक्षण कीजिए।

16. Study the following bar graph that shows the growth of population in India from 1951 to 2011 and answer the questions given below :

1+1+3=5

निम्नलिखित बार ग्राफ का अध्ययन कीजिए जोकि 1951 से लेकर 2011 तक भारत की जनसंख्या वृद्धि को दर्शाता है। उसी के आधार पर नीचे दिए गए प्रश्नों के उत्तर दीजिए:



Growth of population in India from 1951-2011

(a) Find out whether the growth rate of population was positive or negative between 1991 to 2001.

1991 से लेकर 2001 के बीच जनसंख्या वृद्धि दर सकारात्मक थी या नकारात्मक।

(b) Find out and write the years when the growth rate of population was lowest & highest.

उन वर्षों को लिखें जब भारत में जनसंख्या की विकास दर सबसे कम और सबसे अधिक रही।

(a) State three reasons for the increasing growth rate of population in India since 1951.

1951 से भारत में जनसंख्या की बढ़ती वृद्धि दर के तीन कारण लिखिए।

17. Why has it become very essential to conserve water? Suggest any three methods that can be adopted to conserve water.

2+3=5

जल का संरक्षण नितान्त अनिवार्य क्यों हो गया है? जल के संरक्षण हेतु कोई तीन उपाय सुझाइए।

18. Explain the developments in the final phase of freedom struggle till 1945 that led to India's Independence. 5  
भारत को स्वतंत्रता दिलाने में, 1945 तक आज़ादी की लड़ाई के अंतिम चरण में होने वाले घटनाक्रमों की व्याख्या कीजिए।
19. Assess the successful working of Indian democracy since independence. 5  
स्वतंत्रता के बाद से भारतीय लोकतंत्र के सफल संचालन का आकलन कीजिए।
20. What were the different methods adopted by the British to establish and expand their empire in India? Explain any five. 5×1=5  
अंग्रेज़ों द्वारा भारत में अपना शासन स्थापित करने तथा उसके विस्तार हेतु अपनाए गए तरीके कौन से थे? किन्हीं पांच का उल्लेख कीजिए।
21. Identify any two reasons for which Lok Adalats have been set up in India. Explain the nature of their working. 2+3=5  
भारत में लोक अदालतों का गठन किए जाने के कोई दो कारण लिखिए। लोक अदालतों की कार्यप्रणाली का वर्णन कीजिए।
22. Who identified the Other Backward Classes (OBCs)? Which communities come under them? Examine the basis of their identification? 1+1+3=5  
अन्य पिछड़े वर्गों की पहचान किसने की? इसके अंतर्गत कौन-से समुदाय आते हैं? इसकी पहचान के आधार का परीक्षण कीजिए।
23. Why is the Union Parliament of India considered as the most powerful legislative institution? Explain. 5  
भारत में संघीय संसद को सबसे शक्तिशाली विधायी संस्था क्यों माना जाता है? उल्लेख कीजिए।
24. (i) Two features (A) and (B) are marked on the given outline political map of the world. Identify these features with the help of following information and write their names on the lines marked on the map.  
(A) An important Bauxite producing country in South America.  
(B) An important Cotton textile manufacturing country in Africa.

(ii) On the same political map of the world, locate and label the following with appropriate symbol :

(C) Venezuela - An important Iron producing country. 2+1=3

(i) विश्व के राजनीतिक रेखा मानचित्र पर दो लक्षण (A) तथा (B) दर्शाए गए हैं। नीचे दी गई सूचना के आधार पर उन्हें पहचानिए तथा उनके सही नाम मानचित्र में खींची गई रेखाओं पर लिखिए -

(A) दक्षिण अमरीका में एक महत्वपूर्ण बॉक्साइट उत्पादक देश

(B) अफ्रीका का एक महत्वपूर्ण सूती वस्त्र निर्माता देश

(ii) दिए गए 'विश्व के उसी राजनीतिक मानचित्र' पर निम्नलिखित को उपयुक्त चिह्नों द्वारा दिखाइए तथा उसका नाम लिखिए।

(C) वेनेजुएले - एक महत्वपूर्ण आयरन उत्पादक देश

**For visually impaired students only in lieu of Q. No. 24**

**प्र.सं. 24 के स्थान पर केवल दृष्टि बाधित विद्यार्थियों के लिए वैकल्पिक प्रश्न**

24.1. Name an important coal producing country in North America.

24.2. Name an important Iron and Steel manufacturing country in Europe.

24.3. Mention an important copper producing country in South America. 3×1=3

24.1. उत्तर अमेरिका में एक महत्वपूर्ण कोयला उत्पादक देश का नाम लिखिए।

24.2. यूरोप में एक महत्वपूर्ण लौह और इस्पात निर्माण करने वाले देश का नाम लिखिए।

24.3. दक्षिण अमेरिका में एक महत्वपूर्ण तांबा उत्पादक देश का उल्लेख कीजिए।

25. (i) Two features (A) and (B) are marked on the the given outline political map of India. Identify these features with the help of information given below and write their names on the lines marked on the map :-

(A) The place where moderates and radicals reunited and signed a joint pact with the Muslim League.

(B) The place associated with the Jallianwala Bagh Massacre.

(ii) On the same political map of India, locate and label the following place :

(C) Maharashtra - The state where Jyotibha Phule started the Satya Shodhak Samaj. 2+1=3

- (i) भारत के दिए गए राजनीतिक रेखा मानचित्र पर दो लक्षण (A) तथा (B) दर्शाए गए हैं। नीचे दी गई जानकारी के आधार पर उन्हें पहचानिए तथा उनके सही नाम मानचित्र पर खींची गई रेखाओं पर लिखिए।
- (A) वह स्थान जहां उदारवादियों और गरमदल वालों का पुनर्मिलन हुआ तथा मुस्लिम लीग के साथ एक संयुक्त समझौते पर हस्ताक्षर हुए।
- (B) जलियाँवाला बाग नरसंहार के साथ संबद्ध स्थान
- (ii) दिए गए उसी 'राजनीतिक रेखा मानचित्र' पर निम्नलिखित को अंकित कीजिए तथा उसका नाम लिखिए -
- (C) महाराष्ट्र - वह राज्य जहाँ ज्योतिष फुले ने सत्य शोधक समाज शुरू किया था।

**Alternative question for visually impaired students only in lieu of Q. No. 25**

**प्र.सं. 25 के स्थान पर केवल दृष्टि बाधित विद्यार्थियों के लिए वैकल्पिक प्रश्न**

25.1. Where did Gandhiji break the salt law?

25.2. Where did the Congress split - up into moderates and radicals in 1907?

25.3. Name the place to which Periyar E.V. Ramasamy belonged.

3×1=3

25.1. गाँधीजी ने नमक कानून कहाँ भंग किया था?

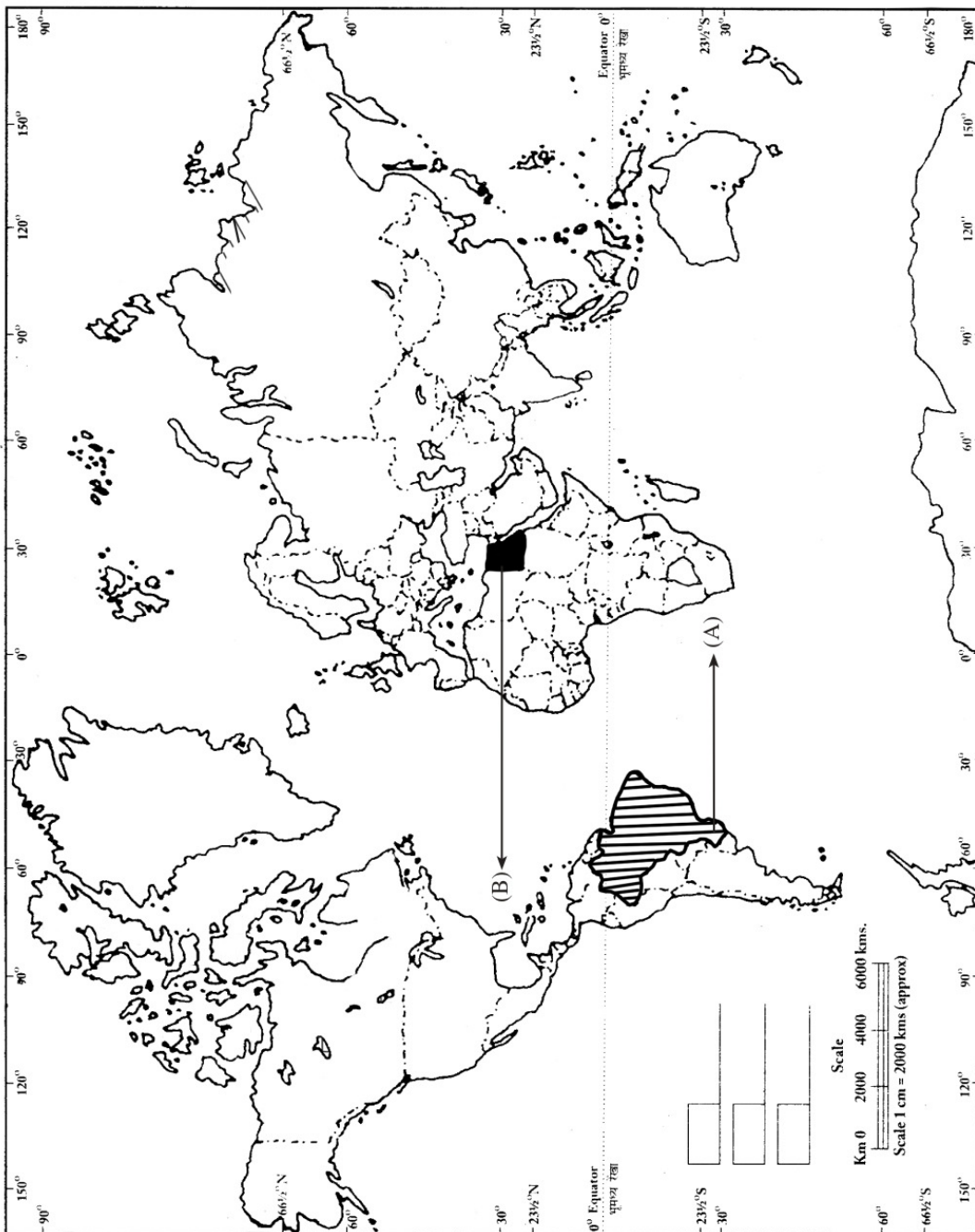
25.2. 1907 में उदारवादियों तथा गरम दल के रूप में, कांग्रेस का विभाजन किस स्थान पर हुआ था?

25.3. उस स्थान का नाम लिखिए जहाँ से पेरियार ई.वी. रामास्वामी का संबंध था।

Roll No. ( अनुक्रमांक ) \_\_\_\_\_

World-Political ( संसार-राजनीतिक )

Map for Question No. 24 ( प्र.सं. 24 के लिए मानचित्र )



Roll No. ( अनुक्रमांक ) \_\_\_\_\_

India-Political ( भारत-राजनीतिक )

Map for Question No. 25 ( प्र.सं. 25 के लिए मानचित्र )



1. Which one of the following is obtained by mixing iron and manganese? 1

(a) Brass (b) Steel

(c) Bauxite (d) Bronze

लोहा और मैंगनीज के मिश्रण से निम्नलिखित में से क्या प्राप्त किया जाता है?

(a) पीतल (b) इस्पात

(c) बॉक्साइट (d) कांस्य

2. In which type of agriculture total produce is large but per hectare yield is comparatively less? 1

(a) Shifting Agriculture (b) Intensive Agriculture

(c) Plantation Agriculture (d) Extensive Agriculture

किस प्रकार की कृषि में कुल उत्पादन बड़ी मात्रा में है लेकिन प्रति हेक्टेयर उपज अपेक्षाकृत कम है?

(a) स्थानांतरी कृषि (b) गहन कृषि

(c) वृक्षारोपण कृषि (d) व्यापक कृषि

3. Which two states are more famous for their cotton textile industry? 1

(a) Jammu-Kashmir & Punjab (b) Maharashtra and Gujrat

(c) Kerala and Tamil Nadu (d) Assam and West Bengal

कौन-से दो राज्य अपने सूती कपड़ा उद्योग के लिए अधिक प्रसिद्ध हैं?

(a) जम्मू-कश्मीर और पंजाब (b) महाराष्ट्र और गुजरात

(c) केरल और तमिलनाडु (d) असम और पश्चिम बंगाल

4. Which one of the following states has the highest density of population? 1

(a) Mizoram (b) Bihar

(c) Chattisgarh (d) Nagaland

निम्नलिखित राज्यों में से आबादी के उच्च घनत्व वाला राज्य कौन सा है?

(a) मिजोरम (b) बिहार

(c) छत्तीसगढ़ (d) नागालैंड



5. Which social reformer was supporter of Dravidian culture and launched a self-respect movement in 1925? 1
- (a) Periyar E.V. Ramasamy (b) Veersalingam Kudukuri  
(c) Jyotiba Phule (d) Shri Narayan Guru
- कौन-सा समाज सुधारक द्राविड़ संस्कृति का समर्थक था और जिसने 1925 में स्वाभिमान आंदोलन की शुरुआत की?
- (a) पेरियार ई.वी. रामासामी (b) वीरसालिंगम कुडुकुरी  
(c) ज्योतिबा फुले (d) श्रीनारायण गुरु।
6. Just after independence Delhi Development Authority was empowered to - 1
- (a) Look after civic amenities  
(b) Look after public health of capital  
(c) Prepare housing and master plan for Delhi  
(d) Manage slum clearance in Delhi
- स्वतंत्रता के बाद दिल्ली विकास प्राधिकरण को सशक्त किया गया था -
- (a) नागरिक सुविधाओं को देखने के लिए।  
(b) राजधानी के सार्वजनिक स्वास्थ्य की देखभाल के लिए।  
(c) दिल्ली के लिए आवास और मास्टर प्लान तैयार करने के लिए।  
(d) दिल्ली में गंदी बस्तियों को हटाने की व्यवस्था के लिए।
7. Which revolutionary among the following was involved in the formation of Hindustani Socialist Republican Association in Kanpur before independence? 1
- (a) Batukeshwar Dutt (b) Ramprasad Bismil  
(c) Subash Chandra Bose (d) Auribindo Ghosh
- निम्नलिखित में से कौन-सा क्रांतिकारी स्वतंत्रता से पहले कानपुर में हिंदुस्तानी सोशलिस्ट रिपब्लिकन एसोसिएशन के गठन में शामिल था?
- (a) बटुकेश्वर दत्त (b) राम प्रसाद बिस्मिल  
(c) सुभाष चंद्र बोस (d) अरविन्दो घोष
8. Who among the following has the power to nominate twelve members to Rajyasabha? 1
- (a) Prime Minister (b) Vice President  
(c) President (d) Election Commissioner
- निम्नलिखित में से किसके पास राज्यसभा में बारह सदस्यों को मनोनीत करने की शक्ति है?
- (a) प्रधानमंत्री (b) उपराष्ट्रपति  
(c) राष्ट्रपति (d) चुनाव आयुक्त
9. Which one of the following statements is NOT CORRECT regarding 'Lok-Adalats'. 1
- (a) Lok-Adalat is presided over by a retired judge  
(b) First Lok-Adalat was held in Delhi.  
(c) Disputes are solved by compromises and agreements  
(d) Lok-Adalat delays justice

निम्नलिखित में से कौन-सा कथन 'लोक-अदालतों' के बारे में सही नहीं है?

- (a) लोक-अदालत एक सेवानिवृत्त न्यायाधीश की अध्यक्षता में होती है।
- (b) प्रथम लोक-अदालत दिल्ली में आयोजित की गई थी।
- (c) विवादों को समझौतों एवं अनुबंधों से हल किया जाता है।
- (d) लोक-अदालत न्याय में देरी करती है।

10. Which one of the following statements is against the spirit of Democracy? 1

- (a) Equitable Society
- (b) Individual Rights
- (c) Social discrimination
- (d) Equality of Opportunities

निम्नलिखित में से कौन-सा कथन लोकतंत्र की भावना के खिलाफ है?

- (a) समतावादी समाज
- (b) व्यक्तिगत अधिकार
- (c) सामाजिक भेदभाव
- (d) अवसरों की समानता

11. State any three features of Plantation agriculture. 3

बागान कृषि की कोई तीन विशेषताएं लिखिए।

12. Explain the favourable conditions required for the production of cotton under the following headings -

- (1) Soil
- (2) Temperature
- (3) Rainfall

3×1=3

निम्नलिखित शीर्षकों के अन्तर्गत कपास के उत्पादन के लिए आवश्यक अनुकूल परिस्थितियों को स्पष्ट कीजिए?

- (1) मृदा
- (2) तापमान
- (3) वर्षा

13. Explain any three differences between small scale industry and large scale industry. 3

लघु उद्योग और बड़े पैमाने पर उद्योग के बीच कोई तीन अंतर स्पष्ट कीजिए।

14. Which three factors have helped Jamshedpur to become a leading Iron and Steel industrial city in India? 3

कौन से तीन कारकों ने भारत में जमशेदपुर को आयरन एवं स्टील उद्योग में एक अग्रणी शहर बनने में मदद दी?

15. "Veersalingam is considered as the Prophet of modern Andhra". Highlight his contribution to improve the Indian society. 3

"वीर सालिंगम् को आधुनिक आंध्र के पैगंबर के रूप में माना जाता है।" भारतीय समाज के सुधार में उनके योगदान को उजागर कीजिए।

16. Why cabinet mission was sent to India in 1946? What was the reaction of Muslim league towards it? 3

1946 में भारत में कैबिनेट मिशन क्यों भेजा गया था? इसके प्रति मुस्लिम लीग की क्या प्रतिक्रिया थी?

17. Analyse the reasons for the economic progress of India in industry as well as in agriculture sector since 1947. 3  
 1947 के बाद से भारत के उद्योग के साथ-साथ कृषि क्षेत्र में आर्थिक प्रगति के कारणों का विश्लेषण कीजिए।
18. Describe the three situations under which emergency can be declared in India by President. 3  
 ऐसी तीन स्थितियों का वर्णन कीजिए जिनके अन्तर्गत राष्ट्रपति द्वारा भारत में आपात काल घोषित किया जा सकता है।
19. 'Indian judicial system is unified and integrated'. Support the statement with examples. 3  
 “भारतीय न्यायिक प्रणाली एकीकृत और समन्वित है।” उदाहरण देकर कथन की पुष्टि कीजिए।
20. How do Directive Principles of State Policy promote welfare society in the country? Explain. 3  
 राज्य के नीति निर्देशक सिद्धान्त देश में कल्याणकारी समाज को कैसे बढ़ावा देते हैं? स्पष्ट कीजिए।
21. How does the 'Fundamental Right against Exploitation' safeguard children from exploitation? Explain. 3  
 'शोषण के विरुद्ध मौलिक अधिकार' किस प्रकार बच्चों को शोषण से सुरक्षित रखता है? स्पष्ट कीजिए।
22. What is meant by energy crisis? As a responsible student, how can you help to conserve energy? 2+3=5  
 ऊर्जा संकट का क्या अर्थ है? एक जिम्मेदार विद्यार्थी के तौर पर आप ऊर्जा संरक्षण में किस प्रकार सहायता कर सकते हैं?
23. Why human beings are considered important part of ecosystem? Describe any three physical factors that affect human population distribution. 2+3=5  
 मनुष्य को पारिस्थितिकी तंत्र का महत्वपूर्ण हिस्सा क्यों माना जाता है? जनसंख्या वितरण को प्रभावित करने वाले किन्हीं तीन भौतिक कारकों का वर्णन कीजिए।

**OR**

Name any four states with high density of population. Explain any three economic factors that are responsible for high density of population. 2+3=5  
 उच्च जनसंख्या घनत्व वाले किन्हीं चार राज्यों के नाम लिखिए। उच्च जनसंख्या घनत्व के लिए उत्तरदायी किन्हीं तीन आर्थिक कारकों की व्याख्या कीजिए।

24. What were the two 'opinions' regarding the medium of education for Indians in the field of education during British rule? State any three positive effects of British system of education. 2+3=5  
 ब्रिटिश शासन के दौरान शिक्षा के क्षेत्र में भारतीयों के लिए शिक्षा के माध्यम के बारे में कौन-से दो मत थे? ब्रिटिश शिक्षा प्रणाली के किन्हीं तीन सकारात्मक प्रभावों को लिखिए।
25. Describe the contribution of Revolutionary movements in Indian struggle for freedom. 5  
 स्वतंत्रता के लिए संघर्ष में भारतीय क्रांतिकारी आंदोलनों के योगदान का वर्णन कीजिए।
26. Who designed the Indian Independence Act of 1947? State any four features of it. 1+4=5  
 1947 का भारतीय स्वतंत्रता अधिनियम किसके द्वारा बनाया गया? इसकी किन्हीं चार विशेषताओं को लिखिए।
27. "The Indian Prime Minister occupies the most powerful position to function as the head of Government." Explain. 5  
 भारत के प्रधानमंत्री को सरकार के प्रमुख के रूप में कार्य करने के लिए सबसे शक्तिशाली स्थान प्राप्त है। व्याख्या कीजिए।
28. Describe any five powers and functions of High Court. 5  
 उच्च न्यायालय की किन्हीं पाँच शक्तियों और कार्यों का वर्णन कीजिए।
29. Who are referred as Dalits among Dalits in Uttar Pradesh? How are they being discriminated under caste system. 1+4=5  
 उत्तर प्रदेश में किनको दलितों में दलित के रूप में जाना जाता है? जाति व्यवस्था के तहत उनके साथ किस प्रकार से भेदभाव किया जा रहा है?

**OR ( अथवा )**

Who was the spiritual mentor of the Bishnois? How to they contribute in enriching India's diverse culture and heritage? 1+4=5  
 बिश्नोइयों के आध्यात्मिक गुरु कौन थे? भारतीय संस्कृति एवं विरासत को समृद्ध बनाने में बिश्नोई समाज के योगदान का उल्लेख करें?

30. (i) Two features (A) and (B) are marked on the given outline political map of India. Identify these features with the help of information given below and write their correct names on the lines marked on the map.
- (A) The city where Jallianwala Bagh Massacre took place.  
 (B) The place where moderates and extremist united.
- (ii) On the same political map of India locate and label the following place :
- (C) The State where Jyotiba Phule founded Satya Shodhak Samaj.
- (i) भारत के राजनीतिक मानचित्र पर दो लक्षण A तथा B दर्शाए गए हैं। नीचे दी गई सूचना के आधार पर उन्हें पहचानिए तथा उनके सही नाम मानचित्र में खींची गई रेखाओं पर लिखिए - 1×3=3
- (A) जालियावाला बाग नरसंहार का नगर।  
 (B) नरमपंथी और कट्टरपंथियों के एकजुट होने का स्थान।
- (ii) दिए गए उसी मानचित्र पर निम्नलिखित लक्षण को अंकित कीजिए तथा उसका नाम लिखिए -
- (C) वह राज्य जहां ज्योतिबा फुले ने सत्य शोधक समाज की स्थापना की।

**Alternative Questions for visually impaired students only in lieu of Q. No. 30**

**प्र.सं. 30 के स्थान पर केवल दृष्टि बाधित विद्यार्थियों के लिए वैकल्पिक प्रश्न**

- (i) Name the city where important session of Congress was held in 1920.  
 (ii) To which state did B.R. Ambedkar belong?  
 (iii) Name the place where moderates and extremist united.
- (i) उस नगर का नाम लिखिए जहाँ अखिल भारतीय कांग्रेस का 1920 में महत्वपूर्ण अधिवेशन हुआ था।  
 (ii) बी.आर. अम्बेडकर कौन से राज्य से संबंधित थे?  
 (iii) उस स्थान का नाम लिखिए जहाँ उदारवादी तथा कट्टरपंथियों का एकीकरण हुआ।
31. (i) Two features (A) and (B) are marked on the given outline political map of the world. Identify these features with the help of information given below and write their correct names on the lines marked on the map :
- (A) An important Textile industry country of Asia  
 (B) An important Iron and Steel manufacturing country of South America.

2+2=4

(ii) On the same outline political map of the world locate and label the following items with appropriate symbols.

(C) Chile - An important Copper producing country

(D) Nigeria - An important Petroleum producing country.

(i) संसार के राजनैतिक मानचित्र पर दो लक्षण (A) और (B) दर्शाए गए हैं। नीचे दी गई सूचना के आधार पर उन्हें पहचानिए तथा उनके सही नाम मानचित्र में खींची गई रेखाओं पर लिखिए -

(A) एशिया का सूती वस्त्र उत्पादक मुख्य देश

(B) दक्षिण अमेरिका का लौह एवं इस्पात उत्पादक देश

(ii) दिए गए उसी मानचित्र पर निम्नलिखित लक्षणों को उपयुक्त चिहनों द्वारा दिखाइए तथा उनके नाम लिखिए -

(C) चिल्ली - एक महत्वपूर्ण ताँबा उत्पादक देश

(D) नाइजीरिया - एक महत्वपूर्ण पेट्रोलियम उत्पादक देश

**Alternative Questions for visually impaired students only in lieu of Q. No. 31**

**प्र.सं. 31 के स्थान पर केवल दृष्टि बाधित विद्यार्थियों के लिए वैकल्पिक प्रश्न**

31.1. Name any one iron and steel manufacturing country of South America.

31.2. Name any one Cotton textile manufacturing country of Asia.

31.3. Name any one petroleum producing country of Africa.

31.4. Name any one copper producing country of South America.

31.1. दक्षिण अमेरिका के लौह एवं इस्पात उत्पादक किसी एक देश का नाम लिखिए।

31.2. एशिया के सूती वस्त्र उत्पादक किसी एक देश का नाम लिखिए।

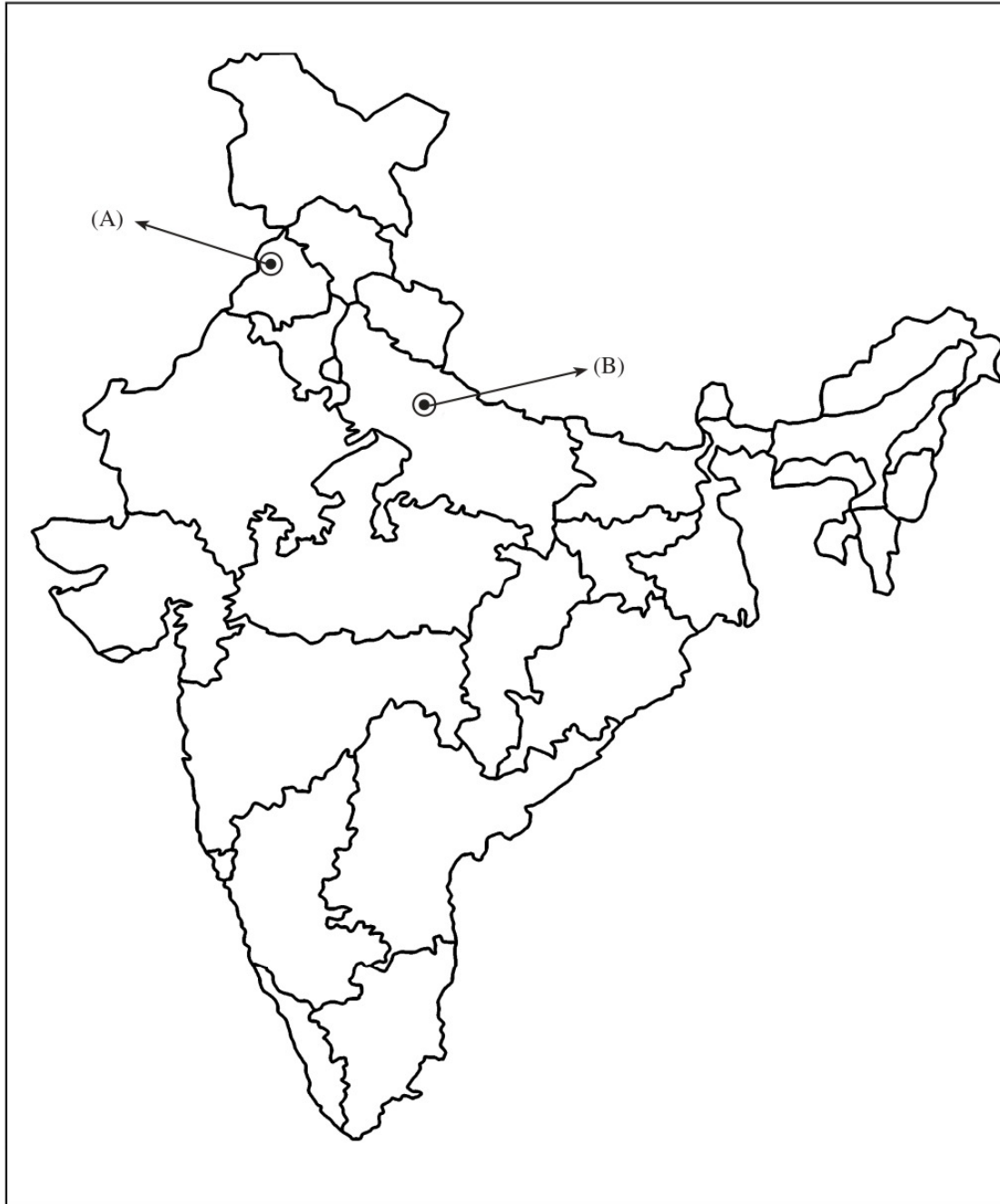
31.3. अफ्रीका के पेट्रोलियम उत्पादक किसी एक देश का नाम लिखिए।

31.4. दक्षिण अमेरिका के ताँबा उत्पादक किसी एक देश का नाम लिखिए।

Roll No. (अनुक्रमांक) \_\_\_\_\_

India-Political (भारत-राजनीतिक)

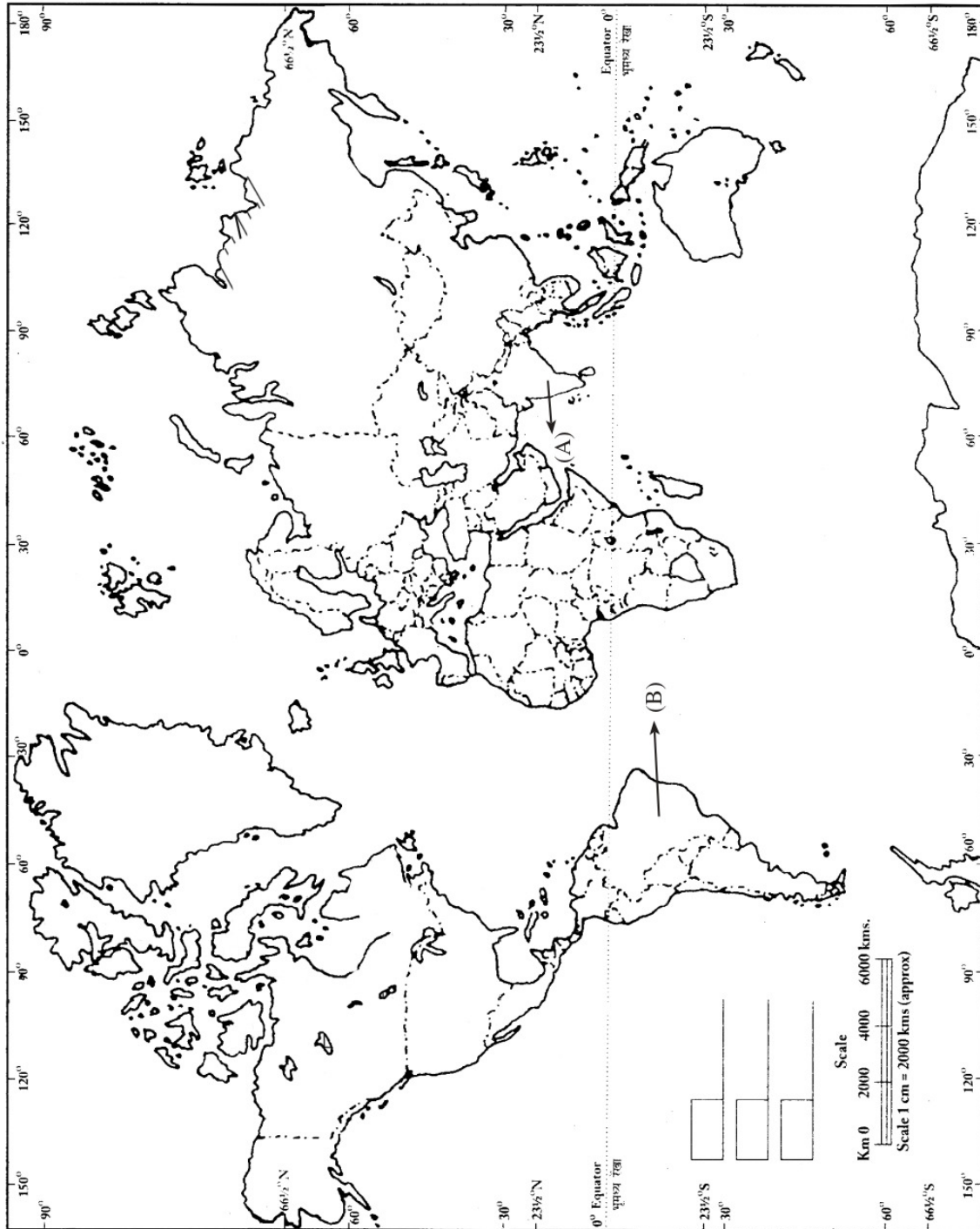
Map for Question No. 30 (प्र.सं. 30 के लिए मानचित्र)



Roll No. (अनुक्रमांक) \_\_\_\_\_

World-Political (संसार-राजनीतिक)

Map for Question No. 31 (प्र.सं. 31 के लिए मानचित्र)





## Paper -10

Maximum Marks : 100

1. (a) Name the country which has got the highest percentage of cultivated land. 1  
उस देश का नाम लिखिए जहाँ कृषि योग्य भूमि का प्रतिशत सबसे अधिक है।
- (b) Differentiate between Natural gas and Bio gas.  $2 \times \frac{1}{2} = 1$   
प्राकृतिक गैस और जैविक गैस (बायो गैस) के बीच अंतर स्पष्ट कीजिए।
- (c) Mention any two qualities of anthracite, a type of coal. 1  
एंथ्रासाइट नामक कोयले की प्रकार की किन्हीं दो विशेषताओं का उल्लेख कीजिए।
- (d) Why is Biogas considered the best non-conventional source of energy for India? 1  
भारत के लिए गैर-परंपरागत साधनों में से बायोगैस को सब से अच्छा क्यों समझा जाता है?
- (e) Which social-reformer is known as the Prophet of modern Andhra Pradesh? 1  
किस समाज सुधारक को आधुनिक आंध्र प्रदेश का पैगम्बर माना जाता है?
- (f) Who was the Prime Minister of Britain when Indian Independence Act was passed? 1  
भारतीय स्वतंत्रता अधिनियम के पारित किए जाने के समय, ब्रिटेन का प्रधानमंत्री कौन था?
- (g) Which communities of India are called Harijans? 1  
भारत के किन वर्गों को हरिजन कहा जाता है?
- (h) In case of a vacant office of the President of India, who officiates in her / his place? 1  
भारत के राष्ट्रपति का पद रिक्त होने की स्थिति में उनका कार्यभार कौन संभालता है?
- (i) Who are the members of the electoral college for the election of the President of India? 1  
राष्ट्रपति के चुनाव के लिए निर्वाचक मंडल में कौन से सदस्य होते हैं?

(j) Which type of cases are heard by the Supreme Court of India under its original jurisdiction? Give any one example. 1

भारत के उच्चतम न्यायालय द्वारा अपने प्रारम्भिक क्षेत्राधिकार के अंतर्गत किस तरह के मामलों की सुनवाई की जाती है? कोई एक उदाहरण दीजिए।

2. How does topography, climate and the vegetation cover affect the soil formation? 1+1+1=3

उच्चावच, जलवायु तथा वनस्पति किस प्रकार मृदा निर्माण को प्रभावित करते हैं?

3. Name two major types of coal. How is coal formed in nature and where is it widely used? 1+2=3

कोयले के दो प्रमुख प्रकारों के नाम लिखिए। प्रकृति में कोयला कैसे बनता है तथा यह सबसे अधिक कहाँ प्रयोग किया जाता है?

4. Define "energy crisis". Give any two measures to overcome the energy crisis. 1+2=3

ऊर्जा संकट को परिभाषित कीजिए। ऊर्जा संकट से उभरने के लिए कोई दो उपाय सुझाइए।

5. Assess the impact of climate and relief features on agriculture of a particular place. 1½+1½=3

किसी स्थान की कृषि पर जलवायु तथा स्लाकृतियों के प्रभाव का आकलन कीजिए।

6. How did Hyder Ali beat the English at their own game during the first Anglo Mysore war? Explain. 3

हैदर अली ने किस प्रकार पहले एंग्लों-मैसूर युद्ध में अंग्रेजों को उन्हीं की चाल में कैसे मात दी? स्पष्ट कीजिए।

7. Assess the role of New Delhi Municipal Committee in the development of New Delhi before Independence. 3

स्वतंत्रता से पहले नई दिल्ली के विकास में नई दिल्ली नगर समिति की भूमिका का आकलन कीजिए।

8. How did the emergence of printing press mobilise the opinion of Indians? Give any three examples to support your answer. 3×1=3

छापेखाने (प्रिंटिंग प्रेस) के उदय ने किस प्रकार भारतीयों के दृष्टिकोण को प्रभावित किया? अपने उत्तर के समर्थन में कोई तीन उदाहरण दीजिए।

9. Mention any three demands of Moderate leaders of the congress. 3×1=3  
कांग्रेस के नरम दल के नेताओं की किन्हीं तीन मांगों का उल्लेख कीजिए।
10. How does the Indian Parliament exercise control over the Union Council of Ministers? Explain 3  
भारतीय संसद किस प्रकार केंद्रीय मंत्रिपरिषद पर नियंत्रण बनाए रखती है? स्पष्ट कीजिए।
11. Explain any three legislative powers of the President of India. 3×1=3  
राष्ट्रपति की किन्हीं तीन विधायी शक्तियों की व्याख्या कीजिए।
12. "The Prime Minister is the pivot and the entire administration revolves around him / her". In the light of the above statement, explain any three powers of the Prime Minister of India. 3×1=3  
“प्रधानमंत्री एक ऐसी धुरी है जिसके इर्द गिर्द सारा प्रशासन घूमता है”। उपरोक्त कथन को ध्यान में रखते हुए, भारत के प्रधानमंत्री की शक्तियों की व्याख्या कीजिए।
13. Who is eligible to become a judge of the Supreme Court of India? Under what circumstances he / she can be removed and how? 1+2=3  
भारत के सर्वोच्च न्यायालय का न्यायाधीश बनने के लिए किन योग्यताओं का होना अनिवार्य है? किसी न्यायाधीश को किन परिस्थितियों में अपने पद से हटाया जा सकता है और कैसे?
14. Explain the mid-day meal scheme and rural development programme undertaken by the Government for the betterment of under privileged. 1½+1½=3  
सरकार द्वारा अभावग्रस्त वर्गों के कल्याण के लिए चलाए जा रहे मध्याह्न भोजन योजना व ग्रामीण विकास कार्यक्रम की व्याख्या कीजिए।
15. How does river water get polluted and what are its adverse effects on human body? Suggest any three methods to conserve water. 2+3=5  
नदी का जल किस प्रकार प्रदूषित होता है तथा मानव शरीर पर इसका क्या प्रतिकूल प्रभाव पड़ता है? जल संरक्षण के लिए कोई तीन उपाय सुझाइए।

16. Analyse any five major factors that have helped Gujarat and Maharashtra to become leading Industrial states of India. 5×1=5  
गुजरात और महाराष्ट्र को अग्रणी औद्योगिक राज्य बनाने में सहायक किन्हीं पाँच कारकों का विश्लेषण कीजिए।
17. Describe age structure as an important component of demographic structure. 5  
जनसंख्या संघटन किस प्रकार जनसंख्या की संरचना का महत्वपूर्ण घटक है? वर्णन कीजिए।
18. Explain the meaning of Dual Government in Bengal. How did the British benefit from it? Which Governor abolished it? 2+2+1=5  
बंगाल की दोहरी शासन व्यवस्था का अर्थ स्पष्ट कीजिए। ब्रिटिश सरकार के लिए यह कैसे लाभदायक सिद्ध हुई? इसे किस गवर्नर द्वारा समाप्त किया गया?
19. Evaluate the contributions made by the revolutionaries during India's struggle for freedom. 5  
भारतीय स्वतंत्रता संग्राम में क्रांतिकारियों द्वारा किए गए योगदान का मूल्यांकन कीजिए।
20. Analyse any five problems that were faced by the newly formed independent India. 5×1=5  
नवगठित स्वतंत्र भारत के समक्ष आई किन्हीं पाँच समस्याओं का विश्लेषण कीजिए।
21. Who elects the speaker and deputy speaker of Lok Sabha? Mention any four main functions of the speaker. 1+4=5  
लोकसभा अध्यक्ष तथा उपाध्यक्ष का निर्वाचन कौन करते हैं? लोकसभा अध्यक्ष के किन्हीं चार मुख्य कार्यों का उल्लेख कीजिए।
22. Explain the original & appellate jurisdiction of the Supreme Court of India. 2½+2½=5  
भारत के सर्वोच्च न्यायालय के प्रारम्भिक तथा अपील संबंधी क्षेत्राधिकारों की व्याख्या कीजिए।

23. Assess the role of the Bishnoi community towards protecting the wildlife and environment.

5

वन्य प्राणियों और पर्यावरण की रक्षा के लिए विशनोई समुदाय की भूमिका का आकलन कीजिए।

24. (i) Two features (A) and (B) are marked on the given outline political map of the world. Identify these features with the help of information given below and write their correct names on the lines marked on the map.

(A) An important copper producing country of South America.

(B) A country famous for cotton textile industry in Europe.

- (ii) On the same outline political map of the world, locate and label with appropriate symbol :

(C) Nigeria - An important country where petroleum is found.

2+1=3

- (i) संसार के राजनीतिक रेखा मानचित्र पर दो बिंदु (A) तथा (B) दर्शाए गए हैं। नीचे दी गई सूचना के आधार पर उन्हें पहचानिए तथा उनके सही नाम दी गई रेखाओं पर लिखिए -

(A) दक्षिण अमरीका का एक महत्वपूर्ण ताँबा उत्पादक देश।

(B) सूती वस्त्र उद्योग के लिए प्रसिद्ध एक यूरोपीय देश।

- (ii) दिए गए उसी संसार के राजनीतिक मानचित्र पर निम्नलिखित को उपयुक्त चिह्नों द्वारा दिखाइए तथा उसका नाम लिखिए :

(C) नाईजीरिया - एक महत्वपूर्ण पेट्रोलियम उत्पादक देश

**For visually impaired students only in lieu of Q. No. 24**

**प्र.सं. 24 के स्थान पर केवल दृष्टि बाधित विद्यार्थियों के लिए वैकल्पिक प्रश्न**

24.1. Name an important industrial region of Asia.

24.2. Name a famous cotton textile manufacturing country of Europe.

24.3. Name an iron and steel manufacturing country of North America

3×1=3

24.1. एशिया के एक महत्वपूर्ण औद्योगिक प्रदेश का नाम लिखिए।

24.2. यूरोप के एक प्रमुख सूती वस्त्र निर्माता देश का नाम लिखिए।

24.3. उत्तरी अमेरिका के लोहा-इस्पात निर्माता देश का नाम लिखिए।

25. (i) Two features (A) and (B) are marked in the the outline political map of India. Identify these features with the help of information given below and write their names on the lines marked on the map :-

(A) The place where General Dyer ordered the British Armed forces to open fire on innocent men and women.

(B) The place where Gandhiji broke the salt law.

(ii) On the same political map of India, locate and label the following :

(C) The state to which Periyer E.V. Ramaswami belonged. 2+1=3

(i) भारत के राजनीतिक मानचित्र पर दो लक्ष्य (A) तथा (B) दर्शाए गए हैं। नीचे दी गई सूचना के आधार पर उन्हें पहचानिए तथा उनके सही नाम मानचित्र पर खींची गई रेखाओं पर लिखिए।

(A) वह स्थान जहां जनरल डायर ने ब्रिटिश सशस्त्र सेना को निर्दोष पुरुषों और महिलाओं पर गोली चलाने का आदेश दिया था।

(B) वह स्थान जहाँ गाँधी जी ने नमक कानून को तोड़ा था।

(ii) दिए गए उसी मानचित्र पर निम्नलिखित को अंकित कीजिए तथा उसका नाम लिखिए -

(C) वह राज्य जहाँ से परियर ई. वी रामास्वामी संबंध रखते थे।

**Alternative question for visually impaired students only in lieu of Q. No. 25**

**प्र.सं. 25 के स्थान पर केवल दृष्टि बाधित विद्यार्थियों के लिए वैकल्पिक प्रश्न**

25.1. When and where did Gandhiji declare to launch the "Quit India Movement"?

25.2. Name the place where Indian National congress and Muslim league signed a pact for self rule. 3×1=3

25.3. Name the state to which Jyotiba Phule belonged.

25.1. गाँधीजी ने 'भारत छोड़ो आंदोलन' की घोषणा कब और कहां की थी?

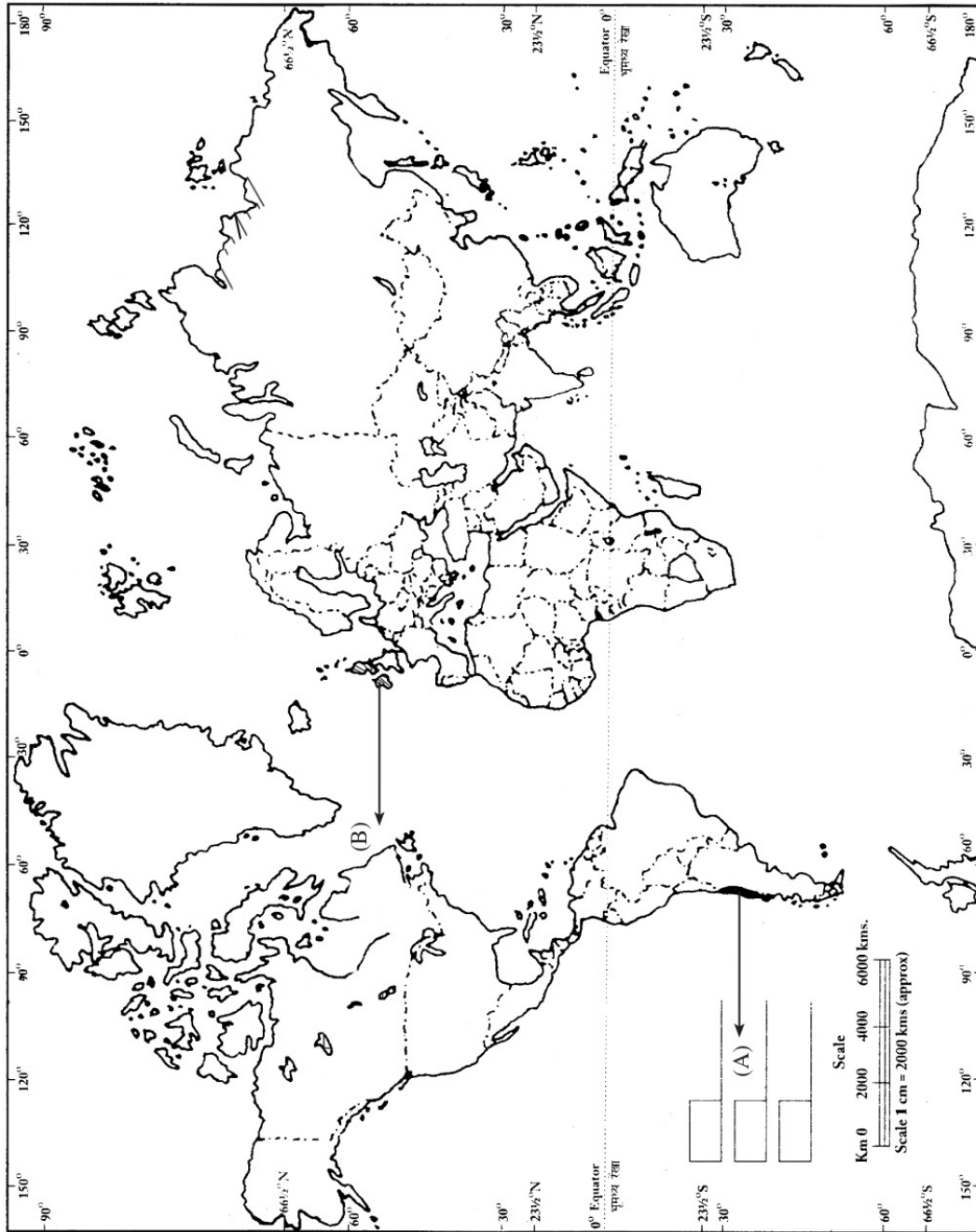
25.2. उस स्थान का नाम बताइए जहाँ भारतीय राष्ट्रीय कांग्रेस और मुस्लिम लीग ने स्वशासन के लिए समझौता किया।

25.3. ज्योति बा फूले किस राज्य से संबंध रखते थे?

Roll No. ( अनुक्रमांक ) \_\_\_\_\_

India-Political ( भारत-राजनीतिक )

Map for Question No. 24 ( प्र.सं. 24 के लिए मानचित्र )





Roll No. (अनुक्रमांक) \_\_\_\_\_

World-Political (संसार-राजनीतिक)

Map for Question No. 25 (प्र.सं. 25 के लिए मानचित्र)

